



Arbeitsblätter zum Ausdrucken von [sofatutor.com](https://www.sofatutor.com)

Der Wasserkreislauf



- 1 Gib an, wofür man Trinkwasser im Haushalt verwendet.
- 2 Beschreibe die Begriffe Trinkwasser und Brauchwasser.
- 3 Stelle einen Wasserkreislauf dar.
- 4 Beschreibe den Verbrauch von Trinkwasser.
- 5 Erkläre, was mit dem Meereswasser in einem Wasserkreislauf passiert.
- 6 Erkläre die Funktion einer Kläranlage.
- + mit vielen Tipps, Lösungsschlüsseln und Lösungswegen zu allen Aufgaben

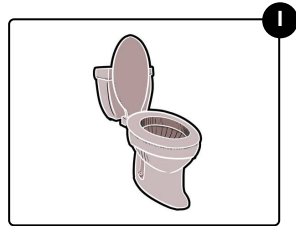


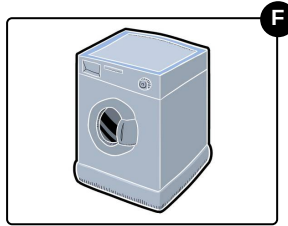




Das komplette Paket, inkl. aller Aufgaben, Tipps, Lösungen und Lösungswege gibt es für alle Abonnenten von [sofatutor.com](https://www.sofatutor.com)



Gib an, wofür man Trinkwasser im Haushalt verwendet.

Wähle die richtigen Bilder aus.





Unsere Tipps für die Aufgaben

1
von 6

Gib an, wofür man Trinkwasser im Haushalt verwendet.

1. Tipp

Überlege dir, wobei du selbst schon Trinkwasser verwendet hast.



Lösungen und Lösungswege für die Aufgaben

1
von 6

Gib an, wofür man Trinkwasser im Haushalt verwendet.

Lösungsschlüssel: A, B, C, D, E, F, G, I

Eine Fabrik gehört nicht zu einem Haushalt. In der Industrie wird hauptsächlich Brauchwasser verwendet.

Wie du schon merkst, wird Trinkwasser in nahezu allen Situationen im Haushalt genutzt. Du putzt dir mit Trinkwasser jeden Morgen die Zähne, kochst damit und gießt Blumen. Das meiste Wasser wird im Haushalt bei der Toilettenspülung verbraucht. Um kostbares Trinkwasser zu sparen, solltest du während des Zähneputzens den Wasserhahn schließen. Du kannst zum Beispiel auch Regenwasser sammeln und damit deine Blumen gießen.