




Arbeitsblätter zum Ausdrucken von [sofatutor.com](https://www.sofatutor.com)

Was ist der Unterschied zwischen Körper und Fläche?



- 1 Was gehört zu den Flächen und was zu den Körpern?
- 2 Wie heißen diese Flächen?
- 3 Wie heißen diese Körper?
- 4 Welche Aussagen zu Körpern stimmen?
- 5 Welche Flächen kannst du an den Körpern erkennen?
- 6 Welcher Plan passt zum Bauklotzturm?
- + mit vielen Tipps, Lösungsschlüsseln und Lösungswegen zu allen Aufgaben

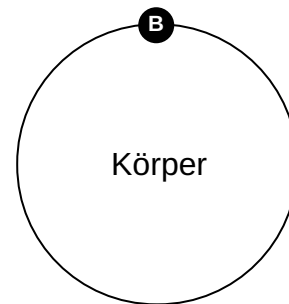
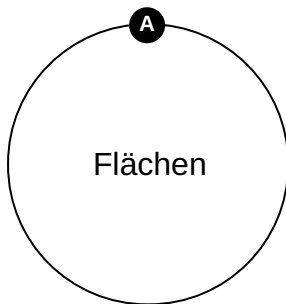
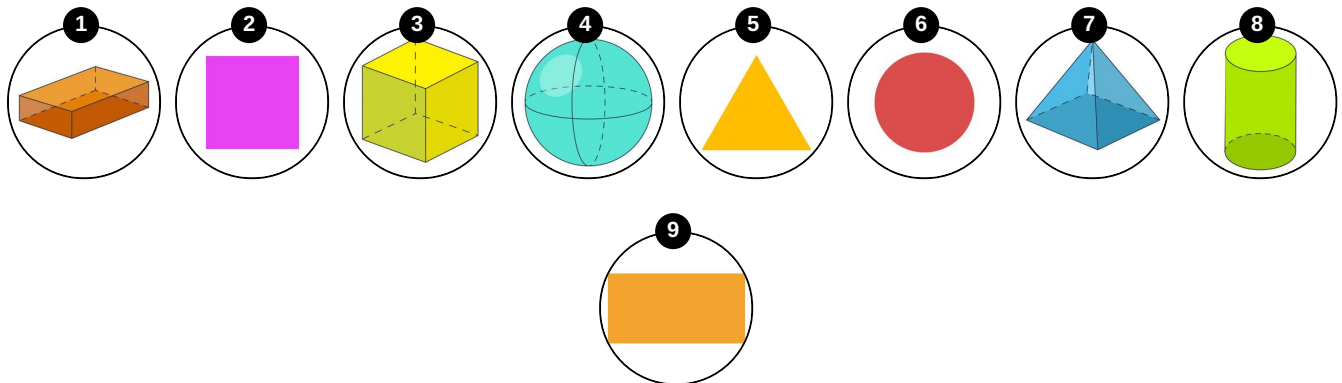


Das komplette Paket, inkl. aller Aufgaben, Tipps, Lösungen und Lösungswege gibt es für alle Abonnenten von [sofatutor.com](https://www.sofatutor.com)



Was gehört zu den Flächen und was zu den Körpern?

Ordne der richtigen Kategorie zu.





Unsere Tipps für die Aufgaben


1
von 6

Was gehört zu den Flächen und was zu den Körpern?

1. Tipp

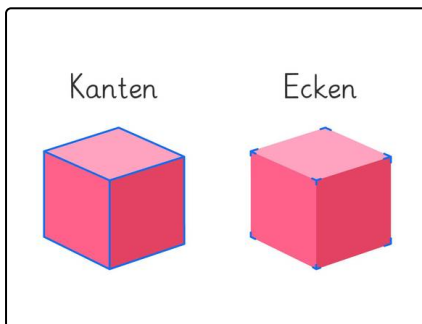
Eine Fläche ist **flach**.

2. Tipp



Kappu hält einen Körper in den Händen.

3. Tipp



Wenn du einen **Körper drehst**, kannst du seine **Flächen und Ecken** anschauen.

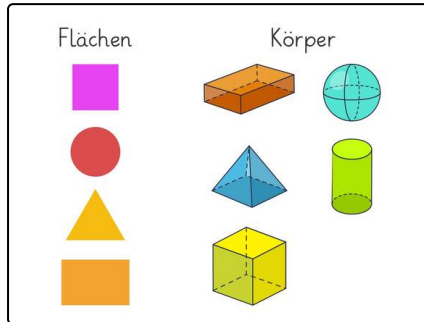


Lösungen und Lösungswege für die Aufgaben

1
von 6

Was gehört zu den Flächen und was zu den Körpern?

Lösungsschlüssel: A: 2, 5, 6, 9 // B: 1, 3, 4, 7, 8



Flächen sind **flach**.

Körper sind **nicht flach**. Sie **ragen** in den Raum **hinein**.