



Arbeitsblätter zum Ausdrucken von [sofatutor.com](https://www.sofatutor.com)

# Bild und Spiegelbild



- 1 **An welcher Linie wurde das Klecksbild gefaltet?**
- 2 Welche Verdopplungsaufgabe passt zum Bild?
- 3 Welche Bilder und Spiegelbilder gehören zusammen?
- 4 Welche Formen entstehen beim Spiegeln an der Linie?
- 5 Wie sieht das Spiegelbild vollständig aus?
- 6 Welche Spiegelbilder sind richtig?
- + mit vielen Tipps, Lösungsschlüsseln und Lösungswegen zu allen Aufgaben



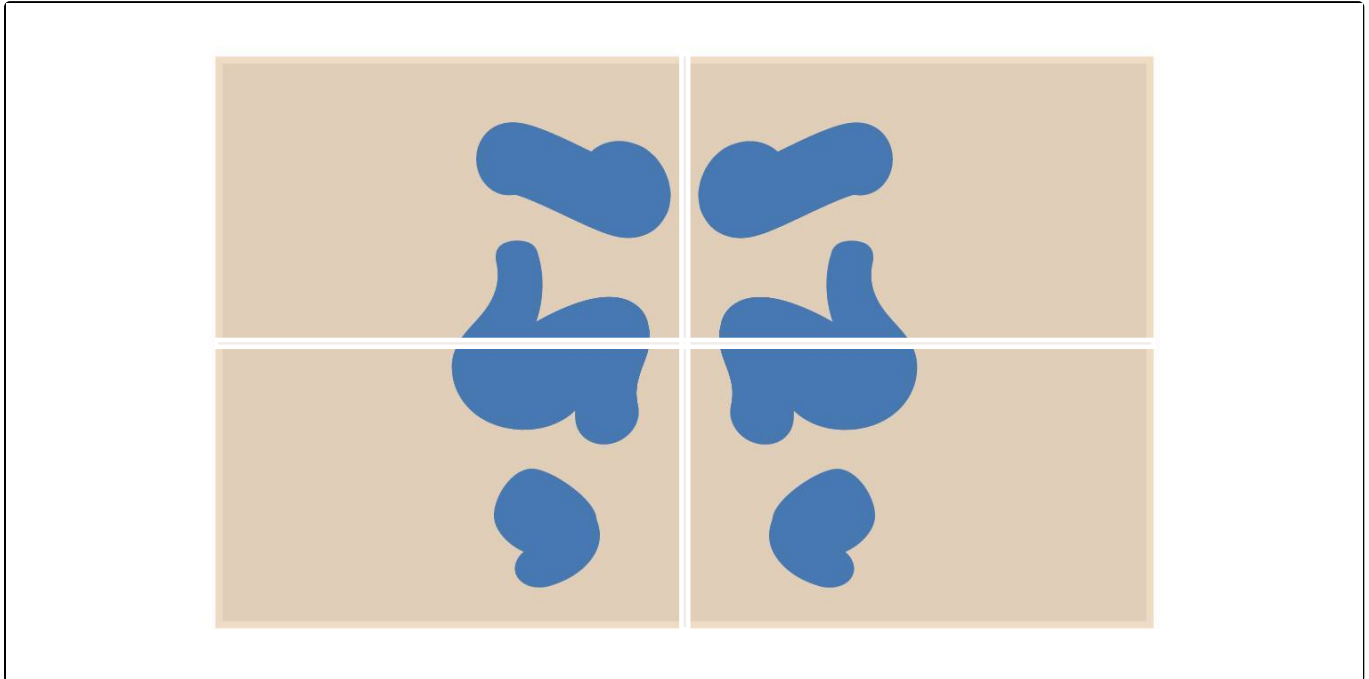
Das komplette Paket, **inkl. aller Aufgaben, Tipps, Lösungen und Lösungswege** gibt es für alle Abonnenten von [sofatutor.com](https://www.sofatutor.com)



## An welcher Linie wurde das Klecksbild gefaltet?

Markiere die richtige Faltlinie.

 Faltlinie



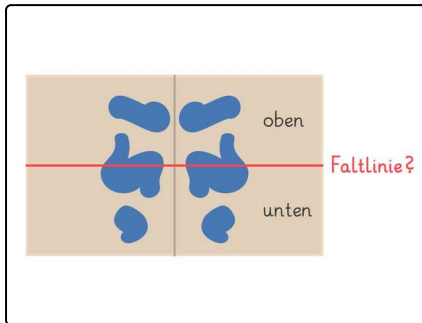


## Unsere Tipps für die Aufgaben

1  
von 6

### An welcher Linie wurde das Klecksbild gefaltet?

#### 1. Tipp



Wenn an dieser Linie gefaltet worden wäre, müsste die **obere Form** genauso aussehen wie die **untere Form**. Ist das hier so?

#### 2. Tipp

Nein! Die **obere Form** sieht **anders** aus als die **untere Form**.

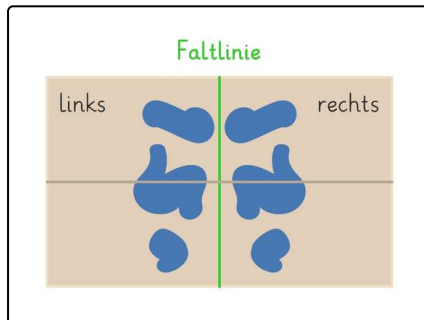
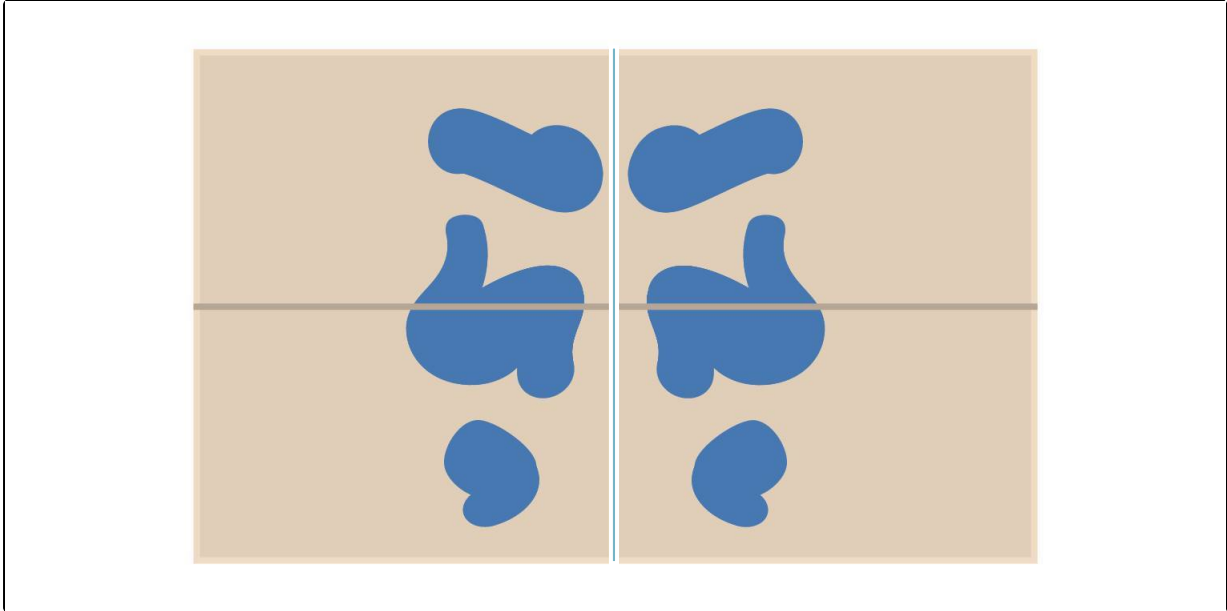


## Lösungen und Lösungswege für die Aufgaben

1  
von 6

### An welcher Linie wurde das Klecksbild gefaltet?

 Faltlinie



Diese **Faltlinie** ist richtig, denn die **Form** auf der **linken Seite** sieht **genauso** aus wie die **Form** auf der **rechten Seite**.