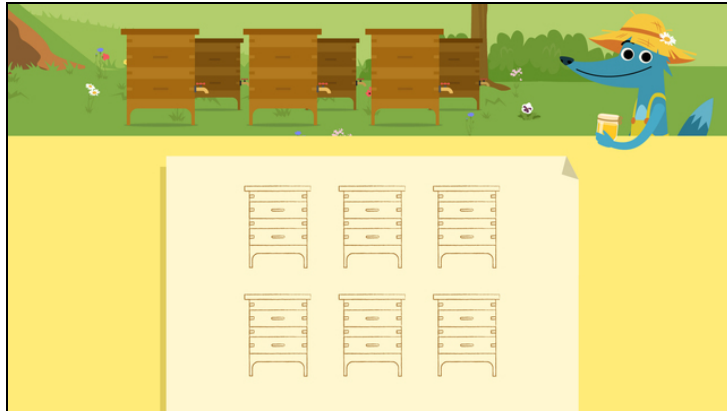




Arbeitsblätter zum Ausdrucken von [sofator.com](https://www.sofator.com)

Tabellen und Skizzen anfertigen und lesen



- 1 **Wieviele Honiggläser hat Wolfram in seiner Skizze?**
- 2 Welche Skizze passt zu Wolframs sechs Bienenkästen?
- 3 Was siehst du auf den Skizzen?
- 4 Welche Beschreibung passt zu welcher Skizze?
- 5 Wie lauten die Sätze richtig?
- 6 **Wieviele Bienenkästen muss Wolfram in jeder Reihe aufstellen, wenn er 15 Kästen auf 3 Reihen aufteilen möchte?**
- + mit vielen Tipps, Lösungsschlüsseln und Lösungswegen zu allen Aufgaben

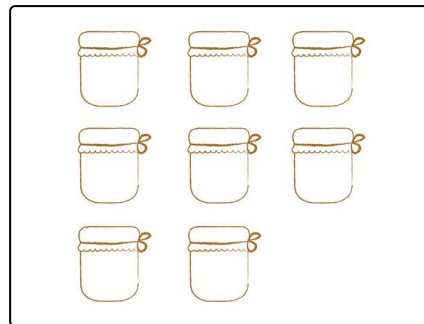


Das komplette Paket, **inkl. aller Aufgaben, Tipps, Lösungen und Lösungswege** gibt es für alle Abonnenten von [sofator.com](https://www.sofator.com)



Wieviele Honiggläser hat Wolfram in seiner Skizze?

Wähle die richtige Anzahl aus.



6 A

7 B

8 C

9 D



Unsere Tipps für die Aufgaben

1
von 6

Wieviele Honiggläser hat Wolfram in seiner Skizze?

1. Tipp



Zähle alle Honiggläser
oder zähle, wie viele Gläser in jeder Reihe stehen und rechne die
Ergebnisse dann zusammen.

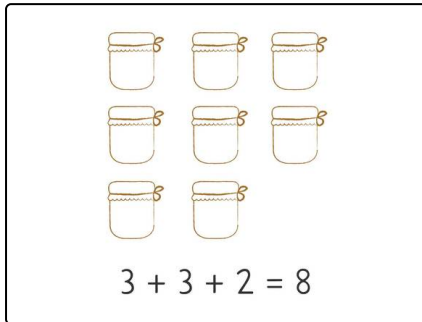


Lösungen und Lösungswege für die Aufgaben

1
von 6

Wieviele Honiggläser hat Wolfram in seiner Skizze?

Lösungsschlüssel: C



Wolfram hat **acht** Honiggläser.