




Arbeitsblätter zum Ausdrucken von [sofatutor.com](https://www.sofatutor.com)

Rechenmauern – Plusrechnen bis 10



- 1 Welche Zahl fehlt in der Rechenmauer?
- 2 Welche Plusaufgabe gehört zu welcher Zahlenmauer?
- 3 Welche Zahlen können unten in der Rechenmauer stehen, damit das Ergebnis 10 ist?
- 4 Welche Zahlen fehlen in der Zahlenmauer?
- 5 Welche Plusaufgaben stecken in der Zahlenmauer?
- 6 Welche Zahlen fehlen in der Rechenmauer
- + mit vielen Tipps, Lösungsschlüsseln und Lösungswegen zu allen Aufgaben



Das komplette Paket, inkl. aller Aufgaben, Tipps, Lösungen und Lösungswege gibt es für alle Abonnenten von [sofatutor.com](https://www.sofatutor.com)



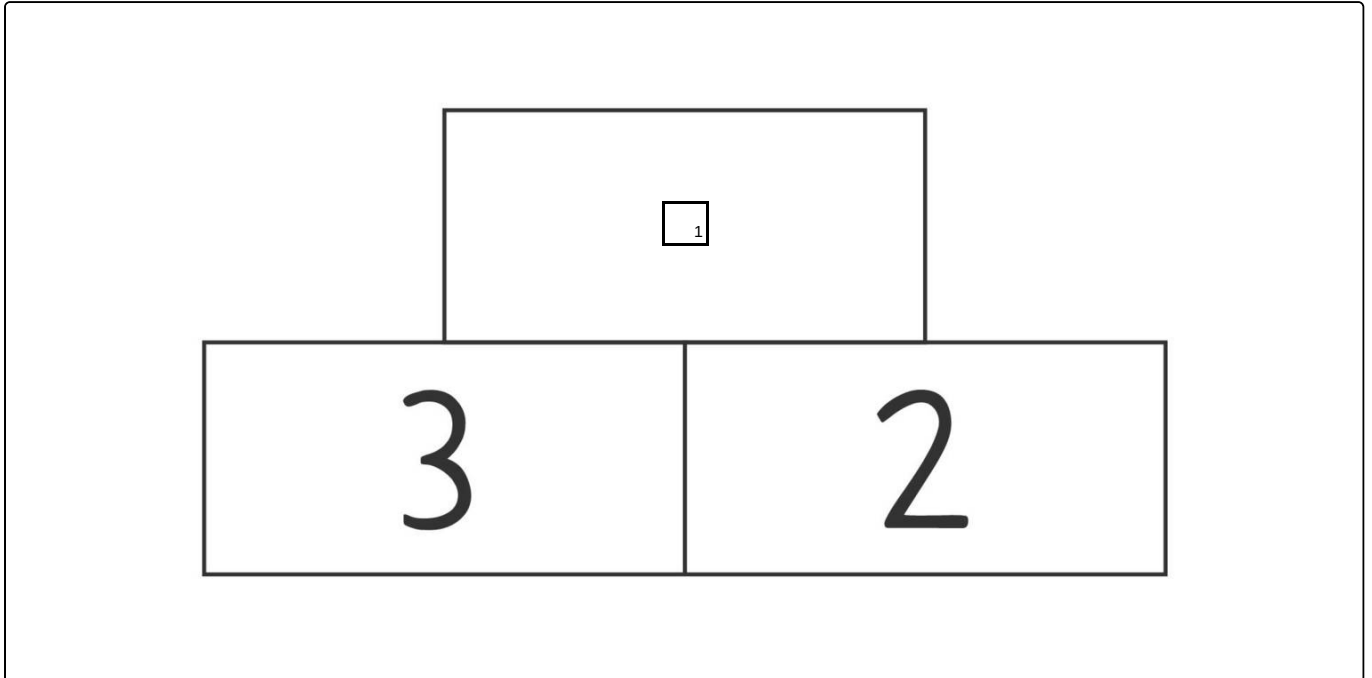
Welche Zahl fehlt in der Rechenmauer?

Fülle die Lücke mit der richtigen Zahl.

6

5

4





Unsere Tipps für die Aufgaben

1
von 6

Welche Zahl fehlt in der Rechenmauer?

1. Tipp

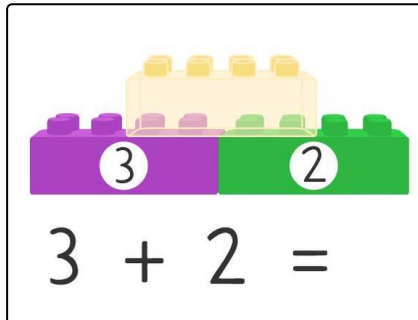


[sofatutor.at/ep/3TbM](https://www.sofatutor.at/ep/3TbM)

Stelle dir die Rechenmauer als normale **Plusaufgabe** vor und addiere die beiden unteren Steine:

$$3 + 2$$

2. Tipp



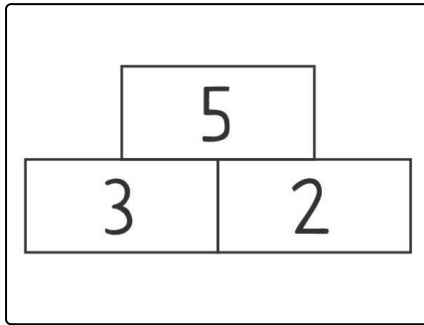


Lösungen und Lösungswege für die Aufgaben

1
von 6

Welche Zahl fehlt in der Rechenmauer?

Lösungsschlüssel: 5



Rechne die beiden **unteren Steine** zusammen:

$$3 + 2 = 5$$