




Arbeitsblätter zum Ausdrucken von [sofatutor.com](https://www.sofatutor.com)

Rechengeschichten – Plus und Minus



- 1 Welches Bild passt zu der Rechnung?
- 2 Welche Rechnung passt zu dem Bild?
- 3 Welche Rechnung wird hier gesucht?
- 4 Welche Minusaufgabe passt zu den Bildern?
- 5 Welche Rechnung gehört zu welchem Ergebnis?
- + mit vielen Tipps, Lösungsschlüsseln und Lösungswegen zu allen Aufgaben




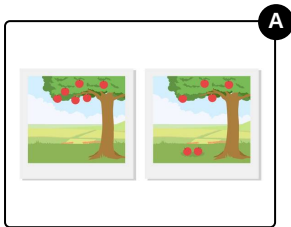
Das komplette Paket, inkl. aller Aufgaben, Tipps, Lösungen und Lösungswege gibt es für alle Abonnenten von [sofatutor.com](https://www.sofatutor.com)



Welches Bild passt zu der Rechnung?

Wähle die richtige Antwort aus.

$$5 + 4 = 9$$





Unsere Tipps für die Aufgaben

1
von 5

Welches Bild passt zu der Rechnung?

1. Tipp



Wenn du Plus rechnest, wird etwas mehr.

2. Tipp



Es gibt bereits 5 von etwas und es kommen noch 4 hinzu.



Lösungen und Lösungswege für die Aufgaben

1
von 5

Welches Bild passt zu der Rechnung?

Lösungsschlüssel: C



Auf dem ersten Bild siehst du einen Würfel mit der Augenzahl **5**. Das zweite Bild zeigt den Würfel mit der **5** und einen Würfel mit der Augenzahl **4**. Also musst du rechnen: $5 + 4 = 9$.