




Arbeitsblätter zum Ausdrucken von [sofatutor.com](https://www.sofatutor.com)

Halbschriftliche Addition



$425 + 361 = \underline{\underline{786}}$

H $400 + 300 = 700$

Z $20 + 60 = 80$

E $5 + 1 = 6$

- 1 **Wie kannst du die Zahlen zerlegen?**
- 2 Wie lautet das Ergebnis der Aufgabe?
- 3 Wie lautet das Ergebnis dieser Aufgabe?
- 4 Wie lautet das Ergebnis der Aufgabe?
- 5 Welche Rechnungen stimmen nicht?
- 6 Wie viele Maiskörner hat Rocky insgesamt?
- + mit vielen Tipps, Lösungsschlüsseln und Lösungswegen zu allen Aufgaben



Das komplette Paket, **inkl. aller Aufgaben, Tipps, Lösungen und Lösungswege** gibt es für alle Abonnenten von [sofatutor.com](https://www.sofatutor.com)



Wie kannst du die Zahlen zerlegen?

Ordne den Zahlen die passende Zerlegung zu.

A 228

B 361

C 631

D 822

1 $800 + 20 + 2$

2 $600 + 30 + 1$

3 $200 + 20 + 8$

4 $300 + 60 + 1$




Unsere Tipps für die Aufgaben



1
von 6

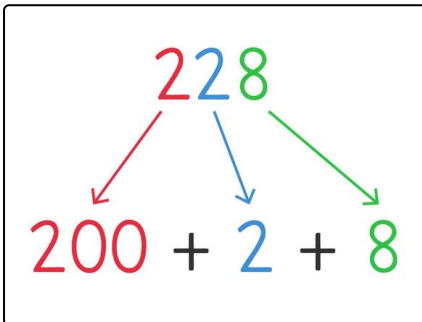
Wie kannst du die Zahlen zerlegen?

1. Tipp



Die Zahl 228 besteht aus **2 Hundertern**, **2 Zehnern** und **8 Einern**.

2. Tipp



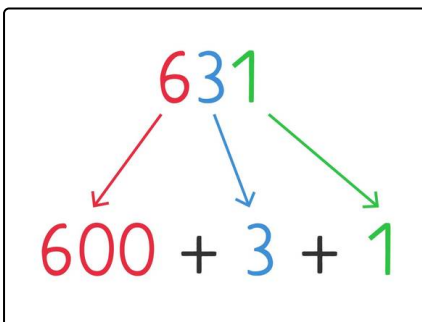
228 setzt sich also so zusammen: **200 + 20 + 8**.

3. Tipp



Die Zahl 631 besteht aus **6 Hundertern**, **3 Zehnern** und **1 Einer**.

4. Tipp



631 setzt sich also so zusammen: **600 + 30 + 1**.

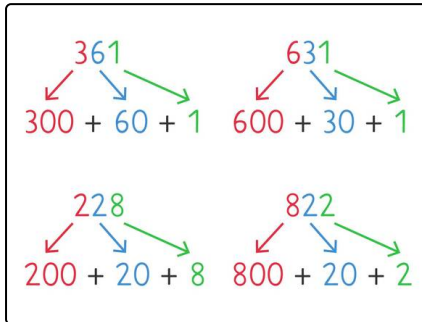


Lösungen und Lösungswege für die Aufgaben

1
von 6

Wie kannst du die Zahlen zerlegen?

Lösungsschlüssel: A—3 // B—4 // C—2 // D—1



Hier siehst du die **Zahlen** und deren **Zerlegungen** in Hunderter, Zehner und Einer.