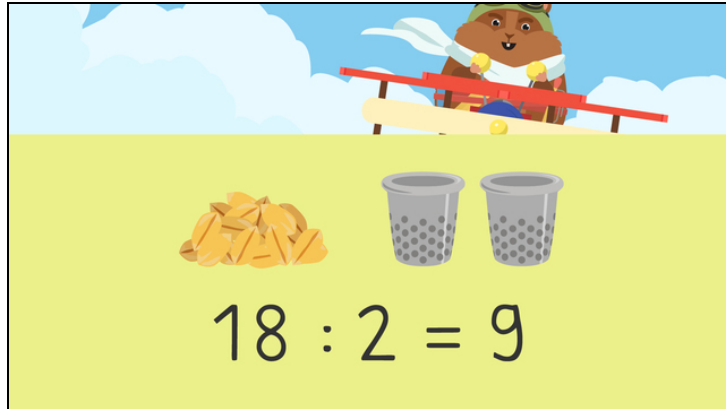




Arbeitsblätter zum Ausdrucken von [sofatutor.com](https://www.sofatutor.com)

## Teilen – Wie löse ich Divisionsaufgaben?



- 1 Welche Geteiltaufgabe passt zum Bild?
- 2 Was sind die Umkehraufgaben dieser Geteiltaufgaben?
- 3 Wie lauten die Ergebnisse der Aufgaben?
- 4 Wie lauten die Ergebnisse der Aufgaben?
- 5 Wie lauten die Umkehraufgaben und die Ergebnisse der Geteiltaufgaben?
- 6 Bei welchen Aufgaben wurde falsch gerechnet?
- + mit vielen Tipps, Lösungsschlüsseln und Lösungswegen zu allen Aufgaben

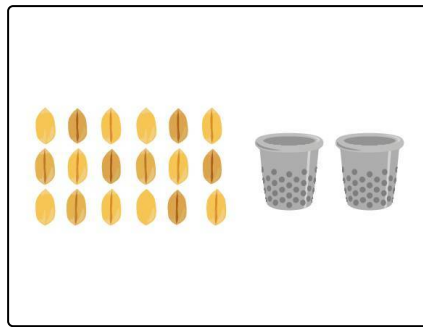


Das komplette Paket, inkl. aller Aufgaben, Tipps, Lösungen und Lösungswege gibt es für alle Abonnenten von [sofatutor.com](https://www.sofatutor.com)



## Welche Geteiltaufgabe passt zum Bild?

Wähle die passende Geteiltaufgabe aus.



$20 : 8$  **A**

$18 : 3$  **B**

$18 : 2$  **C**

$2 : 18$  **D**




## Unsere Tipps für die Aufgaben

1  
von 6

### Welche Geteiltaufgabe passt zum Bild?

#### 1. Tipp



Es sind **18** Körner und **2** Eimer.

---

#### 2. Tipp

**18** Körner sollen auf **2** Eimer **verteilt** werden.

---

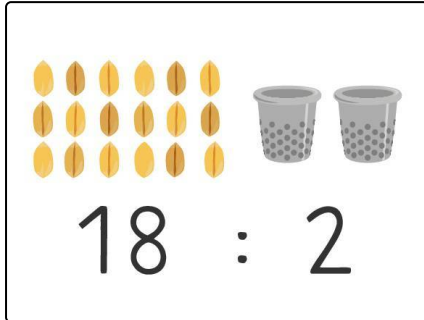


## Lösungen und Lösungswege für die Aufgaben

1  
von 6

### Welche Geteiltaufgabe passt zum Bild?

Lösungsschlüssel: C



Es sind **18** Körner und **2** Eimer.

Die **18** Körner sollen auf die **2** Eimer **verteilt** werden.

Also lautet die passende Geteiltaufgabe: **18 : 2**.