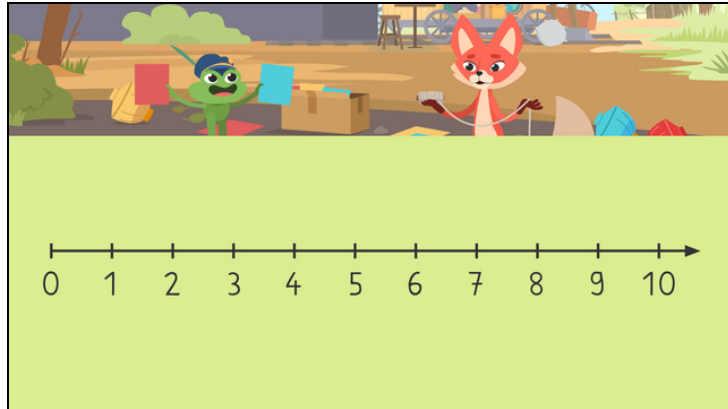




Arbeitsblätter zum Ausdrucken von [sofatutor.com](https://www.sofatutor.com)

Der Zahlenstrahl im Zahlenraum bis 1000



- 1 Welche Zahl ist größer, 34 oder 56?
- 2 Welche Zahlen stehen in den Lücken des Zahlenstrahls?
- 3 Welche Zahlen stehen in den Lücken des Zahlenstrahls?
- 4 Welche Zahlen stehen in den Lücken des Zahlenstrahls?
- 5 Welche Zahlen stehen in den Lücken des Zahlenstrahls?
- 6 Welche Zahlen stehen in den Lücken des Zahlenstrahls?
- + mit vielen Tipps, Lösungsschlüsseln und Lösungswegen zu allen Aufgaben

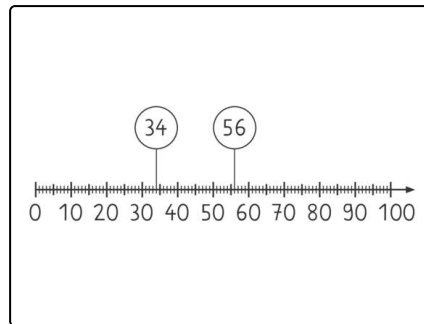


Das komplette Paket, inkl. aller Aufgaben, Tipps, Lösungen und Lösungswege gibt es für alle Abonnenten von [sofatutor.com](https://www.sofatutor.com)



Welche Zahl ist größer, 34 oder 56?

Fülle die Lücken richtig aus.



rechts links 56 34

Die **größere Zahl** ist die₁, weil sie weiter₂ am Zahlenstrahl steht.

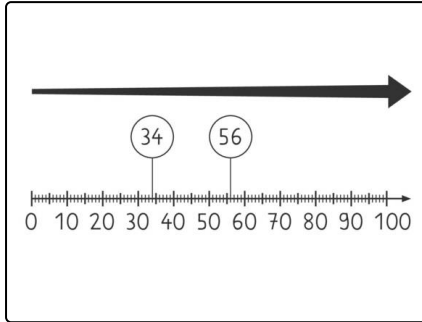


Unsere Tipps für die Aufgaben

1
von 6

Welche Zahl ist größer, 34 oder 56?

1. Tipp



Je weiter **rechts**, desto **größer** werden die Zahlen am Zahlenstrahl.

2. Tipp

Die **56** steht **weiter rechts** als die 34.

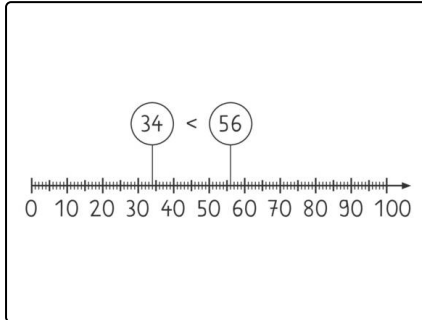


Lösungen und Lösungswege für die Aufgaben

1
von 6

Welche Zahl ist größer, 34 oder 56?

Lösungsschlüssel: 1: 56 // 2: rechts



Je weiter **rechts**, desto **größer** werden die Zahlen am Zahlenstrahl.

Die **56** steht **weiter rechts** als die 34. Deshalb ist die **56** die **größere Zahl**.