




Arbeitsblätter zum Ausdrucken von [sofatutor.com](https://www.sofatutor.com)

Zahlen bis 20 zusammenzählen



- 1 Welches Zehnerfeld passt zur Rechenaufgabe $4+5=9$?
- 2 Wie viele Plättchen sind es insgesamt?
- 3 Welche Aufgabe passt zu welchem Zehnerfeld?
- 4 Welches Ergebnis passt zu welcher Plusaufgabe?
- 5 Wie viel ergeben diese Plusaufgaben?
- 6 Welche Aufgaben kannst du aus den 20er-Feldern bilden?
- + mit vielen Tipps, Lösungsschlüsseln und Lösungswegen zu allen Aufgaben

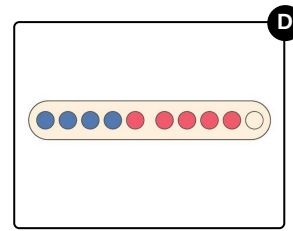
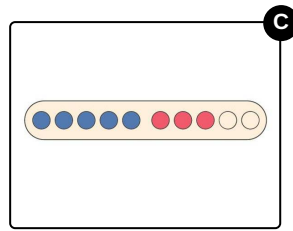
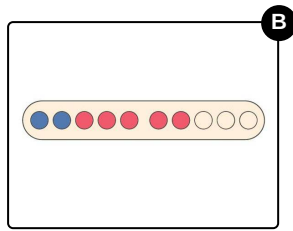
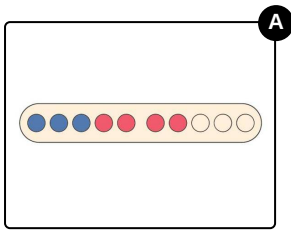


Das komplette Paket, inkl. aller Aufgaben, Tipps, Lösungen und Lösungswege gibt es für alle Abonnenten von [sofatutor.com](https://www.sofatutor.com)



Welches Zehnerfeld passt zur Rechenaufgabe $4+5=9$?

Wähle das richtige Bild aus.





Unsere Tipps für die Aufgaben

1
von 6

Welches Zehnerfeld passt zur Rechenaufgabe $4+5=9$?

1. Tipp

Die Aufgabe $4+5=9$ hat **vier blaue** und **fünf rote** Plättchen!



Lösungen und Lösungswege für die Aufgaben

1
von 6

Welches Zehnerfeld passt zur Rechenaufgabe $4+5=9$?

Lösungsschlüssel: D

