




Arbeitsblätter zum Ausdrucken von [sofatutor.com](https://www.sofatutor.com)

# Was ist ein Kreis?



- 1 **Wie heißt diese Form?**
- 2 Welches Bild zeigt einen Kreis?
- 3 Wo sind Kreise in diesem Bild?
- 4 Wie viele Kreise kannst du hier sehen?
- 5 Welcher Gegenstand hat die Form eines Kreises?
- 6 Wie heißen diese Formen?
- + mit vielen Tipps, Lösungsschlüsseln und Lösungswegen zu allen Aufgaben




Das komplette Paket, **inkl. aller Aufgaben, Tipps, Lösungen und Lösungswege** gibt es für alle Abonnenten von [sofatutor.com](https://www.sofatutor.com)



## Wie heißt diese Form?

Wähle die passende Antwort aus.



Quadrat

A

Dreieck

B

Kreis

C

Rechteck

D

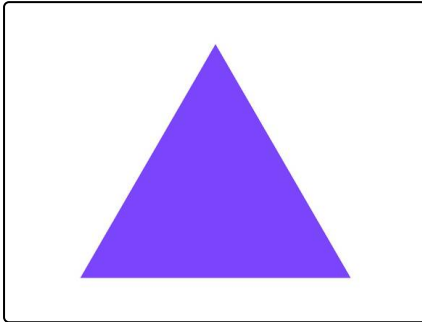


## Unsere Tipps für die Aufgaben

1  
von 6

### Wie heißt diese Form?

#### 1. Tipp



Das hier ist ein Dreieck.

---

#### 2. Tipp



Ein Quadrat hat vier Ecken.

---



## Lösungen und Lösungswege für die Aufgaben

1  
von 6

### Wie heißt diese Form?

**Lösungsschlüssel:** C

Das Bild zeigt einen **Kreis**. Er ist rund und hat keine Ecken und keine Kanten.