




Arbeitsblätter zum Ausdrucken von [sofatutor.com](https://www.sofatutor.com)

# Uhrzeit – Was ist eine halbe Stunde?



- 1 **Wie spät ist es?**
- 2 Wie viele Minuten hat eine halbe Stunde?
- 3 Was weißt du über eine halbe Stunde?
- 4 Wie spät ist es?
- 5 Wie spät ist es?
- 6 Welche Zahlen fehlen?
- + mit vielen Tipps, Lösungsschlüsseln und Lösungswegen zu allen Aufgaben




Das komplette Paket, **inkl. aller Aufgaben, Tipps, Lösungen und Lösungswege** gibt es für alle Abonnenten von [sofatutor.com](https://www.sofatutor.com)




## Wie spät ist es?

Wähle alle richtigen Lösungen aus.




**A**



[sofatutor.at/ep/3R9c](https://www.sofatutor.at/ep/3R9c)

**B**




[sofatutor.at/ep/3R9d](https://www.sofatutor.at/ep/3R9d)

**C**



[sofatutor.at/ep/3R9e](https://www.sofatutor.at/ep/3R9e)

**D**



[sofatutor.at/ep/3R9f](https://www.sofatutor.at/ep/3R9f)



## Unsere Tipps für die Aufgaben

1  
von 6

### Wie spät ist es?

#### 1. Tipp



Zwischen welchen beiden Zahlen steht der Minutenzeiger?

---



## Lösungen und Lösungswege für die Aufgaben

1  
von 6

### Wie spät ist es?

**Lösungsschlüssel:** A, C

Es sind *zwei* Antworten richtig.

Es ist **halb 9**.

Und auch:

Es ist **20.30 Uhr**.

Du erkennst es daran, dass der Minutenzeiger unten auf der 6 und der Stundenzeiger zwischen der 8 und der 9 steht.