




Arbeitsblätter zum Ausdrucken von [sofatutor.com](https://www.sofatutor.com)

Geometrische Muster



- 1 Welche Aussagen über Muster sind richtig?
- 2 Welche Form kommt nach dem Rechteck?
- 3 Wie heißen die Formen?
- 4 Welche Formen siehst du in dem Muster?
- 5 Welches Muster ist ohne Fehler.
- 6 Welche Fehler findest du in diesem Muster?
- + mit vielen Tipps, Lösungsschlüsseln und Lösungswegen zu allen Aufgaben




Das komplette Paket, inkl. aller Aufgaben, Tipps, Lösungen und Lösungswege gibt es für alle Abonnenten von [sofatutor.com](https://www.sofatutor.com)



Welche Aussagen über Muster sind richtig?


Wähle die richtigen Aussagen aus.

A



sofatutor.com/ep/3RtW

B



sofatutor.com/ep/3RtX

C



sofatutor.com/ep/3RtY

D



sofatutor.com/ep/3RtZ



Unsere Tipps für die Aufgaben

1
von 6

Welche Aussagen über Muster sind richtig?

1. Tipp



Es sind **zwei** Antworten richtig.



Lösungen und Lösungswege für die Aufgaben

1
von 6

Welche Aussagen über Muster sind richtig?

Lösungsschlüssel: A, C

Muster bestehen aus geometrischen Formen, die sich wiederholen. Du kannst diese Folgen aus Formen unendlich fortsetzen.