




Arbeitsblätter zum Ausdrucken von [sofatutor.com](https://www.sofatutor.com)

Rechentipps - Zehnertrick



- 1 Wie lautet das Ergebnis, wenn du die roten und die blauen Plättchen zusammenrechnest?
- 2 Welche Zahlen ergeben zusammen 10?
- 3 Wie kannst du die Aufgaben mit dem Zehnertrick lösen?
- 4 Wie kannst du die Aufgaben mit dem Zehnertrick lösen?
- 5 Wie kannst du die Aufgabe vereinfachen?
- 6 Welche Zahl fehlt in der Rechnung?
- + mit vielen Tipps, Lösungsschlüsseln und Lösungswegen zu allen Aufgaben



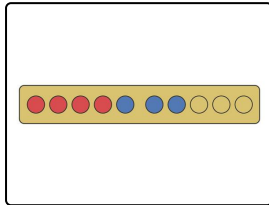
Das komplette Paket, inkl. aller Aufgaben, Tipps, Lösungen und Lösungswege gibt es für alle Abonnenten von [sofatutor.com](https://www.sofatutor.com)



Wie lautet das Ergebnis, wenn du die roten und die blauen Plättchen zusammenrechnest?

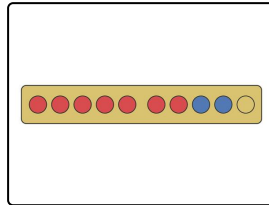
Trage das passende Ergebnis ein.

- 8
- 10
- 7
- 9



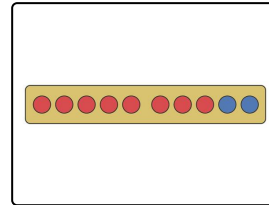
Ergebnis:

.....1



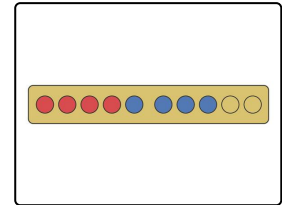
Ergebnis:

.....2



Ergebnis:

.....3



Ergebnis:

.....4

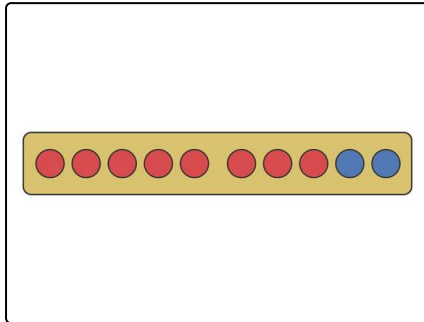


Unsere Tipps für die Aufgaben

1
von 6

Wie lautet das Ergebnis, wenn du die roten und die blauen Plättchen zusammenrechnest?

1. Tipp



Links und rechts von der Mitte sind immer 5 Plättchen.



Lösungen und Lösungswege für die Aufgaben

1
von 6

Wie lautet das Ergebnis, wenn du die roten und die blauen Plättchen zusammenrechnest?

Lösungsschlüssel: 1: 7 // 2: 9 // 3: 10 // 4: 8

Du kannst mit Zwischenschritten rechnen:

Hier siehst du 2 Beispiele:

$$4 + 3$$

$$4 + 1 = 5$$

$$5 + 2 = 7$$

$$4 + 4$$

$$4 + 1 = 5$$

$$5 + 3 = 8$$