



Arbeitsblätter zum Ausdrucken von [sofatutor.com](https://www.sofatutor.com)

unmöglich, möglich oder sicher?



- 1 **Welcher Stern kann nicht gezogen werden?**
- 2 **Wolfram und Berthold spielen Seesterne angeln. Was ist möglich, unmöglich oder sicher?**
- 3 **Was ist bei einem Würfel möglich, unmöglich oder sicher?**
- 4 **Welches Glücksrad würdest du wählen, wenn die Farbe Gelb gewinnt?**
- 5 **Welche Kugel kann bei welchem Spiel gezogen werden?**
- 6 **Welche Glücksräder haben die gleichen Gewinnchancen?**
- + **mit vielen Tipps, Lösungsschlüsseln und Lösungswegen zu allen Aufgaben**




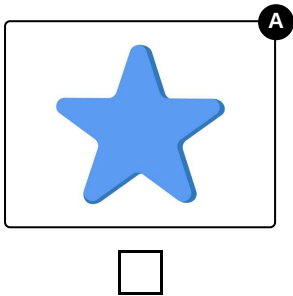



Das komplette Paket, **inkl. aller Aufgaben, Tipps, Lösungen und Lösungswege** gibt es für alle Abonnenten von [sofatutor.com](https://www.sofatutor.com)



Welcher Stern kann nicht gezogen werden?

Wähle das unmögliche Ergebnis aus.





Unsere Tipps für die Aufgaben

1
von 6

Welcher Stern kann nicht gezogen werden?

1. Tipp



Es ist zum Beispiel **unmöglich**, einen pinken Stern zu ziehen, da dieser im Spiel nicht vorhanden ist.

2. Tipp



Es ist möglich einen **blauen Stern** zu ziehen, da es **zwei blaue Sterne** in dem Spiel gibt, aber auch andere Sterne.



Arbeitsblatt: unmöglich, möglich oder sicher?

Mathematik / Wahrscheinlichkeitsrechnung und Stochastik / Daten erheben und auswerten / Begriffe der Wahrscheinlichkeit / unmöglich, möglich oder sicher?

Lösungen und Lösungswege für die Aufgaben

1
von 6

Welcher Stern kann nicht gezogen werden?

Lösungsschlüssel: D



Es ist **unmöglich**, einen grünen Stern zu ziehen, da dieser in dem Spiel nicht vorhanden ist.