



Arbeitsblätter zum Ausdrucken von sofatutor.com

Malnehmen bis 50 (Plättchen)



- 1 Welches Bild passt zu der Aufgabe 3 mal 5?
- 2 Welche Malaufgabe passt zu dem Bild?
- 3 Welche Malaufgabe passt zu welchem Bild?
- 4 Welche Tauschaufgaben gehören zusammen?
- 5 Welche Malaufgabe passt zu welchem Bild?
- 6 Welche Malaufgabe passt zu welchen Ergebnis?
- + mit vielen Tipps, Lösungsschlüsseln und Lösungswegen zu allen Aufgaben

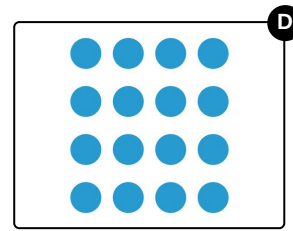
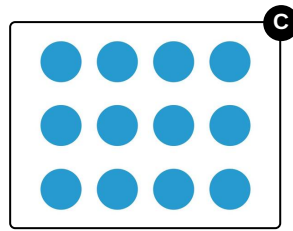
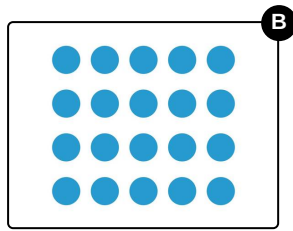
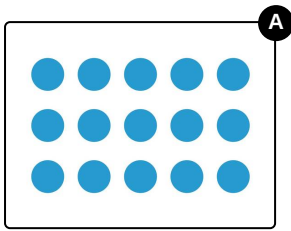


Das komplette Paket, inkl. aller Aufgaben, Tipps, Lösungen und Lösungswege gibt es für alle Abonnenten von sofatutor.com



Welches Bild passt zu der Aufgabe 3 mal 5?

Wähle das richtige Bild aus.






Unsere Tipps für die Aufgaben

1
von 6

Welches Bild passt zu der Aufgabe 3 mal 5?

1. Tipp



Zu diesem Bild gehört die Aufgabe $4 \cdot 6$.

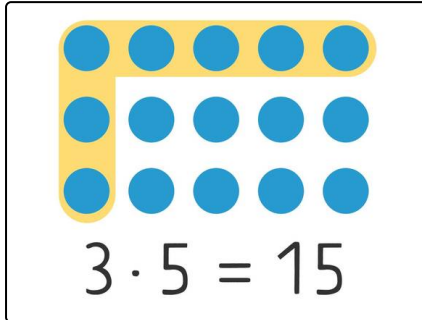


Lösungen und Lösungswege für die Aufgaben

1
von 6

Welches Bild passt zu der Aufgabe 3 mal 5?

Lösungsschlüssel: A



Wie viele Reihen sind es?

Wie viele Plättchen sind in jeder Reihe?

Hier siehst du **3 Reihen** mit jeweils **5 Plättchen**.

Dazu gehört die Aufgabe **3 · 5**.