



Arbeitsblätter zum Ausdrucken von [sofatutor.com](https://www.sofatutor.com)

Halbschriftliches Multiplizieren



- 1 Welche Zahlen gehören zu welcher Einmaleinsreihe? Bestimme.
- 2 Was musst du bei der halbschriftlichen Multiplikation machen? Bestimme.
- 3 Wie werden die Zahlen richtig in die Aufgabe eingesetzt? Vervollständige die Aufgabe.
- 4 Welche Zahlen fehlen in den Lücken? Vervollständige die Aufgabe.
- 5 Wie lautet das Ergebnis? Multipliziere im Kopf.
- 6 Wie viele Röhrchen verschickt Rocky? Bestimme die richtige Lösung.
- + mit vielen Tipps, Lösungsschlüsseln und Lösungswegen zu allen Aufgaben




Das komplette Paket, inkl. aller Aufgaben, Tipps, Lösungen und Lösungswege gibt es für alle Abonnenten von [sofatutor.com](https://www.sofatutor.com)



Welche Zahlen gehören zu welcher Einmaleinsreihe? Bestimme.

Ordne die Zahlen der richtigen Reihe zu.



1
30

2
54

3
42

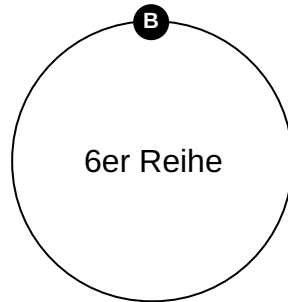
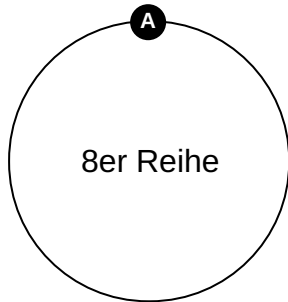
4
16

5
80

6
72

7
18

8
64





Unsere Tipps für die Aufgaben

1
von 6

Welche Zahlen gehören zu welcher Einmaleinsreihe? Bestimme.

1. Tipp

Gehe im Kopf die 8er-Reihe und die 6er-Reihe durch und überlege, welche Zahlen gehören zu welcher Reihe.

2. Tipp

Überlege: Welche Zahl ist durch 8 teilbar? Diese Zahl gehört zur 8er-Reihe. Welche Zahl ist durch 6 teilbar? Diese Zahl gehört zur 6er-Reihe.

3. Tipp

Es gehören 4 Zahlen zur 6er-Reihe und 4 Zahlen zur 8er-Reihe.



Lösungen und Lösungswege für die Aufgaben

1
von 6

Welche Zahlen gehören zu welcher Einmaleinsreihe? Bestimme.

Lösungsschlüssel: A: 4, 5, 6, 8 // B: 1, 2, 3, 7

Alle Zahlen, die durch 8 teilbar sind, gehören zur 8er-Reihe. Das sind bei dieser Aufgabe: 16, 64, 72 und 80.

Alle Zahlen, die durch 6 teilbar sind, gehören zur 6er-Reihe. Das sind bei dieser Aufgabe: 18, 30, 42 und 54.