



Arbeitsblätter zum Ausdrucken von [sofatutor.com](https://www.sofatutor.com)

## Längen – Kommaschreibweise



- 1 Welche Einheit haben diese Längenangaben für diese Gegenstände? Bestimme.
- 2 Wie werden 5,03 dm in die Stellentafel eingetragen? Gib an.
- 3 Wie kannst du 10,3 m noch schreiben? Gib an.
- 4 Wie werden die Längenangaben der Größe nach geordnet? Zeige.
- 5 Welche Längenangaben sind gleich groß? Bestimme.
- 6 Wie lang ist die Strecke? Berechne.
- + mit vielen Tipps, Lösungsschlüsseln und Lösungswegen zu allen Aufgaben

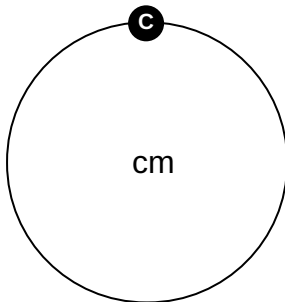
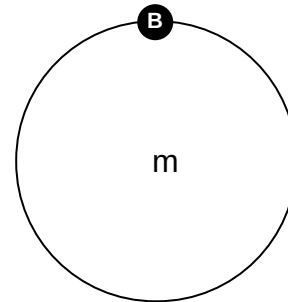
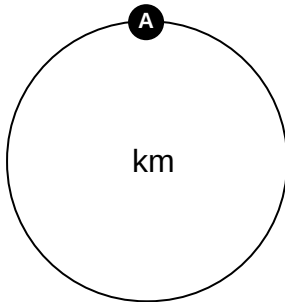
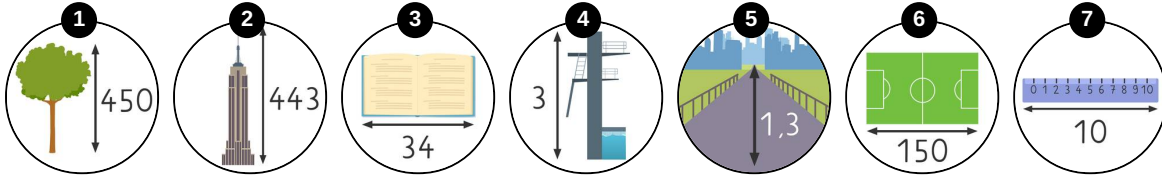


Das komplette Paket, inkl. aller Aufgaben, Tipps, Lösungen und Lösungswege gibt es für alle Abonnenten von [sofatutor.com](https://www.sofatutor.com)



## Welche Einheit haben diese Längenangaben für diese Gegenstände? Bestimme.

Ordne die Objekte der jeweils passenden Einheit zu.





## Unsere Tipps für die Aufgaben

1  
von 6

**Welche Einheit haben diese Längenangaben für diese Gegenstände? Bestimme.**

**1. Tipp**

$$1 \text{ km} = 1000 \text{ m}$$

$$1 \text{ m} = 100 \text{ cm}$$

---



## Lösungen und Lösungswege für die Aufgaben

1  
von 6

**Welche Einheit haben diese Längenangaben für diese Gegenstände? Bestimme.**

**Lösungsschlüssel:** A: 5 // B: 2, 4, 6 // C: 1, 3, 7

Die Länge der Straße ist in **Kilometern** angegeben. Die Länge des Fußballfeldes, die Höhe des Hochhauses und die Höhe des Sprungturms sind in **Metern** angegeben. Die Länge des Lineals, die Höhe des Baumes und die Breite des Buches sind in **Zentimetern** angegeben.