




Arbeitsblätter zum Ausdrucken von [sofatutor.com](https://www.sofatutor.com)

# Umfang und Flächeninhalt



- 1 **Wo kannst du quadratische und rechteckige Gegenstände entdecken?**
- 2 **Was ist der Umfang und was der Flächeninhalt? Gib an.**
- 3 **Wie groß ist der Umfang des Quadrates? Berechne.**
- 4 **Wie viele Einheitsquadrate hat das Rechteck? Bestimme den Flächeninhalt.**
- 5 **Wie groß sind der Umfang und der Flächeninhalt? Ordne die richtigen Zahlen zu.**
- 6 **Welche Skizze passt zu dem Umfang? Bestimme.**
- + **mit vielen Tipps, Lösungsschlüsseln und Lösungswegen zu allen Aufgaben**



Das komplette Paket, **inkl. aller Aufgaben, Tipps, Lösungen und Lösungswege** gibt es für alle Abonnenten von [sofatutor.com](https://www.sofatutor.com)



## Wo kannst du quadratische und rechteckige Gegenstände entdecken?

Markiere zwei quadratische und drei rechteckige Gegenstände im Bild mit den entsprechenden Farben. Benutze verschiedene Farben.

Kappu hat ein Quadrat und zwei Rechtecke gezeichnet.


Wo siehst du quadratische oder rechteckige Gegenstände auf seinem Dachboden?



Quadrat



Rechteck





## Unsere Tipps für die Aufgaben

1  
von 6

### Wo kannst du quadratische und rechteckige Gegenstände entdecken?

#### 1. Tipp

Quadrate haben vier gleich lange Seiten.

---

#### 2. Tipp

Bei einem Rechteck sind immer die gegenüberliegenden Seiten gleich lang.

---



## Lösungen und Lösungswege für die Aufgaben

1  
von 6


### Wo kannst du quadratische und rechteckige Gegenstände entdecken?



Quadrat



Rechteck



#### Quadrate:

- \*die Seiten des Würfels
- \*die Wanduhr

#### Rechtecke:

- \*die Vorderseite des Koffers
- \*der Fernseher
- \*die Vorderseite des Buches