



Arbeitsblätter zum Ausdrucken von [sofatutor.com](https://www.sofatutor.com)

Ohr



- 1 **Schätze die Lautstärke der dargestellten Geräusche ab.**
- 2 Benenne die Bestandteile des menschlichen Ohrs.
- 3 Beschreibe die Funktion der Bestandteile des Ohrs.
- 4 Ordne die Bestandteile des Ohres entsprechend ihrer Lage.
- 5 Erkläre, aus welchen Bestandteilen der Gleichgewichtssinn besteht.
- 6 Erkläre, warum das Gehör durch Lärm Schaden nimmt.
- + mit vielen Tipps, Lösungsschlüsseln und Lösungswegen zu allen Aufgaben


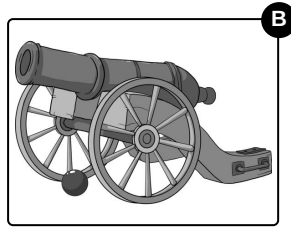



Das komplette Paket, **inkl. aller Aufgaben, Tipps, Lösungen und Lösungswege** gibt es für alle Abonnenten von [sofatutor.com](https://www.sofatutor.com)



Schätze die Lautstärke der dargestellten Geräusche ab.

Sortiere die dargestellten Geräusche von Gegenständen von niedriger zu hoher Lautstärke.



RICHTIGE REIHENFOLGE



Unsere Tipps für die Aufgaben

1
von 6

Schätze die Lautstärke der dargestellten Geräusche ab.

1. Tipp

Stelle dir vor, welche **Geräusche** die oben gezeigten Gegenstände machen. Überlege, bei welchen du dir die Ohren zuhalten musst und bei welchen du dich noch unterhalten kannst.



Lösungen und Lösungswege für die Aufgaben

1
von 6

Schätze die Lautstärke der dargestellten Geräusche ab.

Lösungsschlüssel: D, C, A, B

<i>Gegenstand</i>	<i>Lautstärke</i>
<i>Staubsauger</i>	<i>65 Dezibel</i>
<i>Platzender Luftballon</i>	<i>100 Dezibel</i>
<i>Flugzeug</i>	<i>130 Dezibel</i>
<i>Kanone</i>	<i>160 Dezibel</i>