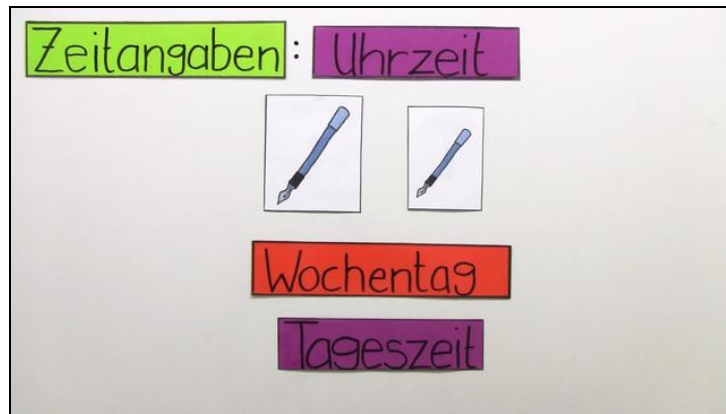




Arbeitsblätter zum Ausdrucken von [sofatutor.com](https://www.sofatutor.com)

Die Zeitangabe - Wie du Uhrzeiten richtig schreibst



- 1 **Wo findest du Uhrzeiten? Bestimme sie.**
- 2 **Wie lauten die Regeln für die Rechtschreibung von Zeitangaben? Untersuche sie.**
- 3 **Welche Regeln zu Uhrzeiten sind richtig? Gib sie an.**
- 4 **Wie schreibst du diese Uhrzeiten? Ordne sie zu.**
- 5 **Werden die Zeitangaben groß- oder kleingeschrieben? Entscheide.**
- 6 **Welche Zeitangaben sind richtig geschrieben? Prüfe.**
- + **mit vielen Tipps, Lösungsschlüsseln und Lösungswegen zu allen Aufgaben**




Das komplette Paket, **inkl. aller Aufgaben, Tipps, Lösungen und Lösungswege** gibt es für alle Abonnenten von [sofatutor.com](https://www.sofatutor.com)



Wo findest du Uhrzeiten? Bestimme sie.

Markiere alle Uhrzeiten.


 Uhrzeiten




Um acht Uhr morgens beginnt für Lara die Schule. Frühstückspause ist um
10:30 Uhr.



Nachmittags um halb vier haben Leon und Max Fußballtraining. Das ist für
sie die beste Zeit des Tages.



Währenddessen haben sich Paul und Marie zum Spielen verabredet. Um
18:00 Uhr muss Paul wieder zuhause sein, weil es um halb sieben
Abendbrot gibt.



Um 19:30 Uhr geht Johanna ins Bett. Sie darf noch eine halbe Stunde
lesen und muss um acht Uhr das Licht ausmachen.



Unsere Tipps für die Aufgaben

1
von 6

Wo findest du Uhrzeiten? Bestimme sie.

1. Tipp

Uhrzeiten erkennst du häufig daran, dass dahinter das Wort *Uhr* steht.

2. Tipp

Das Wort *Uhr* gehört immer mit zur Uhrzeit.



Lösungen und Lösungswege für die Aufgaben

1
von 6

Wo findest du Uhrzeiten? Bestimme sie.

Lösungsschlüssel: Uhrzeiten: 2, 11, 14, 31, 32, 41, 45, 46, 59, 60

Uhrzeiten erkennst du daran, dass sie eine genaue Angabe der Zeit sind. Sie beinhalten ein oder mehrere Zahlwörter oder auch Ziffern. Du erfragst sie mit den Fragen *Wann?*, *Seit wann?* oder *Bis Wann?*

Beispiele für Uhrzeiten sind *halb vier* oder *18:00 Uhr*.