




Arbeitsblätter zum Ausdrucken von [sofatutor.com](https://www.sofatutor.com)

Stammbaum der Pferde



- 1 Gib an, welche Tiere zur Gattung *Equus* gehören.
- 2 Beschreibe das Urpferdchen *Hyracotherium*.
- 3 Vergleiche *Eohippus* mit dem modernen Pferd.
- 4 Zeige auf, wie sich die Pferdeartigen während der Evolution verändert haben.
- 5 Untersuche die Vorfahren der heutigen Pferde.
- 6 Erkläre, warum Mustangs keine Wildpferde sind.
- + mit vielen Tipps, Lösungsschlüsseln und Lösungswegen zu allen Aufgaben




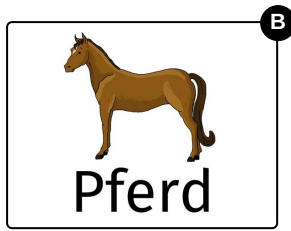
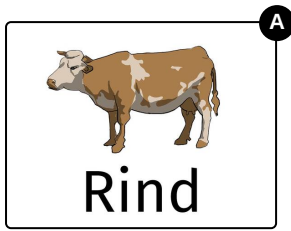


Das komplette Paket, inkl. aller Aufgaben, Tipps, Lösungen und Lösungswege gibt es für alle Abonnenten von [sofatutor.com](https://www.sofatutor.com)



Gib an, welche Tiere zur Gattung *Equus* gehören.

Wähle die passenden Antworten aus.





Unsere Tipps für die Aufgaben

1
von 6

Gib an, welche Tiere zur Gattung *Equus* gehören.

1. Tipp

Überlege dir, welche Tiere nicht zu den anderen passen.

2. Tipp

Der lateinische Begriff *Equus* bedeutet Pferd.

3. Tipp

Das Okapi wird auch Waldgiraffe genannt.



Lösungen und Lösungswege für die Aufgaben

1
von 6

Gib an, welche Tiere zur Gattung *Equus* gehören.

Lösungsschlüssel: B, C, E

Pferd, Esel und Zebra gehören zur Gattung *Equus*. Auch wenn das *Okapi* den Pferden ähnlich sieht, gehört es zur Familie der Giraffenartigen.