




Arbeitsblätter zum Ausdrucken von [sofatutor.com](https://www.sofatutor.com)

Größer als und Kleiner als



- 1 Was ist größer?
- 2 Welche Zahl ist größer?
- 3 Was bedeuten die Zeichen?
- 4 Welches Zeichen wird gesucht?
- 5 Welches Zeichen fehlt hier?
- 6 Welches Zeichen musst du einsetzen?
- + mit vielen Tipps, Lösungsschlüsseln und Lösungswegen zu allen Aufgaben



Das komplette Paket, inkl. aller Aufgaben, Tipps, Lösungen und Lösungswege gibt es für alle Abonnenten von [sofatutor.com](https://www.sofatutor.com)



Was ist größer?


Schreibe die passenden Wörter in die Lücken.

rechte


linke

kleiner

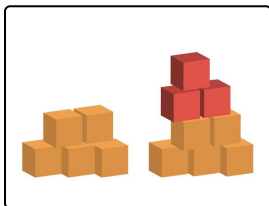
größer



Die Katze ist¹ als der Hund.



Der Elefant ist² als die Maus.



Der³ Turm ist kleiner als der⁴ Turm.



Unsere Tipps für die Aufgaben

1
von 6

Was ist größer?


1. Tipp

Vergleiche die Tiere miteinander. Wer ist kleiner und wer ist größer?

2. Tipp

Schaue genau, ob der Turm auf der linken oder auf der rechten Seite größer ist.

3. Tipp



Schaue dir das Bild genau an. Hier siehst du die linke Hand.



Lösungen und Lösungswege für die Aufgaben

1
von 6

Was ist größer?

Lösungsschlüssel: 1: kleiner // 2: größer // 3: linke // 4: rechte

Du schaust dir die verschiedenen Bilder an. Du vergleichst zuerst die Tiere miteinander und überlegst, welches Tier größer ist.

- Die **Katze** ist kleiner als der **Hund**.
- Der **Elefant** ist größer als die **Maus**.
- Der **linke Turm** ist kleiner als der **rechte Turm**. Unten sehen beide Türme gleich aus. Hier wurden 5 Bausteine aneinander gebaut. Doch bei dem rechten Turm wurden noch 3 rote Bausteine obendrauf gestellt. Deshalb ist der rechte Turm größer als der linke Turm.

Toll, da hast du ganz schön viel herausgefunden!