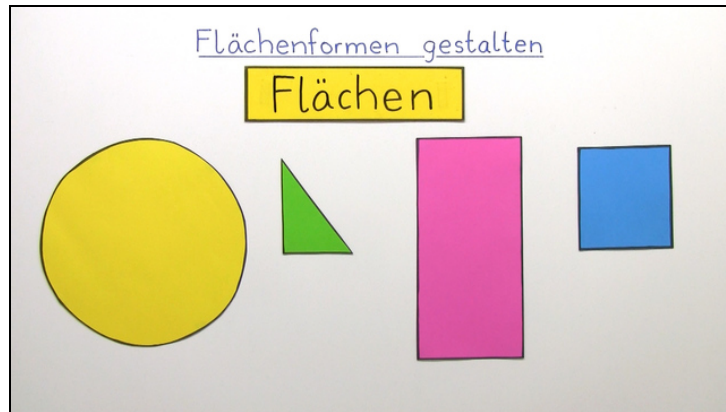




Arbeitsblätter zum Ausdrucken von [sofatutor.com](https://www.sofatutor.com)

Flächenformen gestalten



- 1 Wie viele Quadrate siehst du im Bild? Gib an.
- 2 Was sind Flächen? Nenne alle richtigen Aussagen.
- 3 Wie heißen diese Flächen? Benenne.
- 4 Wie zeichnest du einen Kreis? Entscheide.
- 5 Welche Flächen siehst du im Bild? Ordne zu.
- 6 Wie zeichnest du ein Quadrat? Zeige.
- + mit vielen Tipps, Lösungsschlüsseln und Lösungswegen zu allen Aufgaben

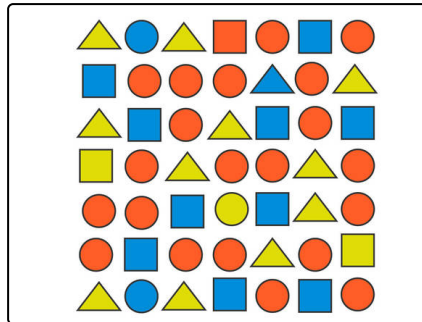


Das komplette Paket, inkl. aller Aufgaben, Tipps, Lösungen und Lösungswege gibt es für alle Abonnenten von [sofatutor.com](https://www.sofatutor.com)



Wie viele Quadrate siehst du im Bild? Gib an.

Zähle die Quadrate in dem Bild und schreibe die Anzahl in die Lücke.






Unsere Tipps für die Aufgaben

1
von 6

Wie viele Quadrate siehst du im Bild? Gib an.

1. Tipp



Weißt du noch? Das ist ein Quadrat.




Lösungen und Lösungswege für die Aufgaben

1
von 6

Wie viele Quadrate siehst du im Bild? Gib an.

Lösungsschlüssel: 13

***auch richtig:** 1: dreizehn



Überlege dir zunächst, wie ein Quadrat aussieht. Ein Quadrat hat vier gleich lange Seiten. Nun musst du die Quadrate zählen. Beginne oben links mit dem Zählen und zähle dann in der ersten Reihe alle Quadrate. Danach gehst du in die zweite Reihe ganz links und zählst weiter. Wenn du am Ende kein Quadrat vergessen hast, kommst du auf **13 Quadrate** in dem Bild. Wenn du möchtest, kannst du jetzt noch die Kreise zählen.