




Arbeitsblätter zum Ausdrucken von [sofatutor.com](https://www.sofatutor.com)

# Ungerade Zahlen



- 1 **Wie viele Murmeln bekommen Lilli und Niko?**
- 2 Welche Zahlen sind ungerade?
- 3 Woran erkennt man eine ungerade Zahl?
- 4 Welche Gegenstände sind in einer ungeraden Anzahl vorhanden?
- 5 Welche Aufgaben haben ein gerades und welche ein ungerades Ergebnis?
- + mit vielen Tipps, Lösungsschlüsseln und Lösungswegen zu allen Aufgaben




Das komplette Paket, **inkl. aller Aufgaben, Tipps, Lösungen und Lösungswege** gibt es für alle Abonnenten von [sofatutor.com](https://www.sofatutor.com)



## Wie viele Murmeln bekommen Lilli und Niko?

Schreibe die Wörter in die Lücken.



Lillis Oma hat für Lilli und Niko insgesamt 7 Murmeln gekauft. Die beiden können es gar nicht abwarten, damit zu spielen. Dazu möchte die Oma die Murmeln gerecht unter ihnen aufteilen. Kannst du ihr helfen?

5   gerade   eine   3   ungerade

Jeder bekommt .....<sup>1</sup> Murmeln.

Es bleibt .....<sup>2</sup> Murmel übrig.

Die 7 ist eine .....<sup>3</sup> Zahl.



## Unsere Tipps für die Aufgaben

1  
von 5

### Wie viele Murmeln bekommen Lilli und Niko?

#### 1. Tipp

Nimm dir sieben kleine Dinge, zum Beispiel Stifte. Teile sie gerecht auf zwei auf.

---




## Lösungen und Lösungswege für die Aufgaben

1  
von 5

### Wie viele Murmeln bekommen Lilli und Niko?

**Lösungsschlüssel:** 1: 3 // 2: eine // 3: ungerade



Dank dir können Lilli und Niko endlich mit dem Spielen anfangen. Jeder von ihnen hat **3 Murmeln** bekommen. **Eine Murmel** ist übrig geblieben. Die 7 ist deshalb eine **ungerade Zahl**. Jetzt müssen sie sich nur noch überlegen, wem sie die übrig gebliebene Murmel schenken wollen.