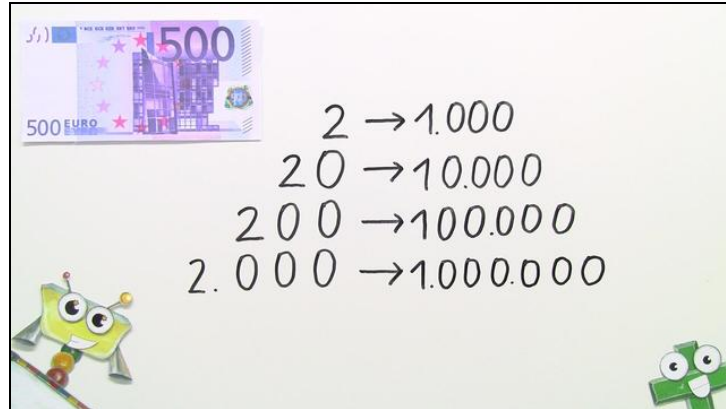




Arbeitsblätter zum Ausdrucken von [sofatutor.com](https://www.sofatutor.com)

Bündeln und zählen



- 1 Welche Geldscheine gibt es? Zeige auf.
 - 2 Wie viele 500-Euro-Scheine brauchst du für eine Million Euro? Bestimme.
 - 3 Wie viele Scheine jeder Art brauchst du für 1 Million Euro? Gib an.
 - 4 Wie viele Münzen brauchst du, damit du auf 2000 Euro kommst? Zeige auf.
 - 5 Wie viele Scheine brauchen Herr und Frau Maus? Bestimme.
- + mit vielen Tipps, Lösungsschlüsseln und Lösungswegen zu allen Aufgaben





Das komplette Paket, inkl. aller Aufgaben, Tipps, Lösungen und Lösungswege gibt es für alle Abonnenten von [sofatutor.com](https://www.sofatutor.com)



Welche Geldscheine gibt es? Zeige auf.

Wähle alle Geldscheine aus, die es in Wirklichkeit gibt.





Unsere Tipps für die Aufgaben

1
von 5

Welche Geldscheine gibt es? Zeige auf.

1. Tipp



Die Werte der Cent-Münzen sind vergleichbar mit den Werten der Geldscheine.

Hänge an die Werte der Euro-Münzen eine Null an, dann hast du auch den Wert von Geldscheinen.



Lösungen und Lösungswege für die Aufgaben

1
von 5

Welche Geldscheine gibt es? Zeige auf.

Lösungsschlüssel: A, B, E, F, G, H



Der Euro ist ein Zahlungsmittel, mit dem man in sehr vielen Ländern Europas bezahlen kann. Es gibt acht Münzen und sieben Geldscheine, die jeweils immer einen anderen Wert haben. Folgende Euro-Scheine gibt es:

- 5-Euro-Schein,
- 10-Euro-Schein,
- 20-Euro-Schein,
- 50-Euro-Schein,
- 100-Euro-Schein,
- 200-Euro-Schein und
- 500-Euro-Schein.

Schau dir das Bild an. Jeder Geldschein hat eine andere Farbe und andere Bilder, damit man ihn sofort erkennt.