




Arbeitsblätter zum Ausdrucken von [sofatutor.com](https://www.sofatutor.com)

Die Zehnerzahlen



- 1 **Wo findest du überall Zehnerzahlen?**
- 2 Welche Zahlen sind Zehnerzahlen?
- 3 Wie viele Gummibärchen hat Frau Beier insgesamt?
- + mit vielen Tipps, Lösungsschlüsseln und Lösungswegen zu allen Aufgaben




Das komplette Paket, **inkl. aller Aufgaben, Tipps, Lösungen und Lösungswege** gibt es für alle Abonnenten von [sofatutor.com](https://www.sofatutor.com)

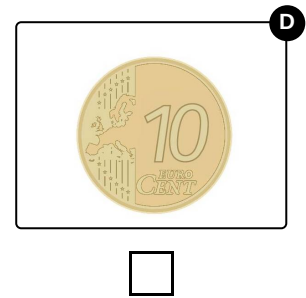
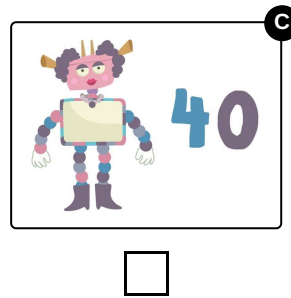
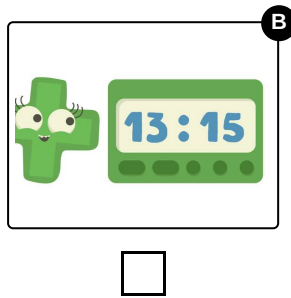
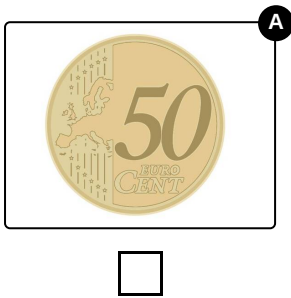


Wo findest du überall Zehnerzahlen?

Wähle die passenden Bilder aus.



Lilly und Nico machen ein Picknick im Park. Dabei spielen sie ein paar Spiele und essen etwas. Da kommt ihnen eine Idee. Sie überlegen, wo sie Zehnerzahlen in ihrem Alltag entdecken können. Wo findest du Zehnerzahlen in den Bildern?





Unsere Tipps für die Aufgaben

1
von 3

Wo findest du überall Zehnerzahlen?

1. Tipp

Achte genau darauf, welche Zahlen auf den Bildern stehen.

2. Tipp

So erkennst du Zehnerzahlen: Eine Zehnerzahl hat an erster Stelle eine Ziffer von 1 bis 9. An zweiter Stelle steht immer eine 0.



Lösungen und Lösungswege für die Aufgaben

1
von 3

Wo findest du überall Zehnerzahlen?

Lösungsschlüssel: A, C, D

Nico und Lilly überlegen sich verschiedene Beispiele. Nico stellt fest, dass das Alter manchmal eine Zehnerzahl ist. Seine Mutter ist zum Beispiel 40 Jahre alt. Die 40 ist eine Zehnerzahl. Zuletzt schauen sie sich Geldmünzen an. Sie bemerken, dass die goldenen Geldmünzen auch Zehnerzahlen haben: Die 10, die 20 und die 50. Auch bei der Uhrzeit können Zehnerzahlen vorkommen. Aber Vorsicht: Wenn es 13:15 Uhr ist, dann haben wir keine Zehnerzahl in der Uhrzeit. Bei 13:30 Uhr können wir aber eine Zehnerzahl entdecken, die 30.

So viele Beispiele haben Lilly und Nico gefunden. Fallen dir noch mehr ein?