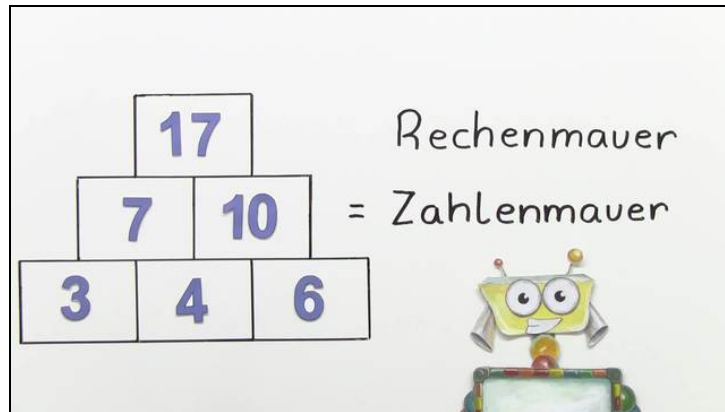




Arbeitsblätter zum Ausdrucken von [sofatutor.com](https://www.sofatutor.com)

Was ist eine Rechenmauer?



- 1 Was weißt du über Zahlenmauern?
- 2 Wie baust du eine Zahlenmauer?
- 3 Welche Zahlen fehlen auf den leeren Bausteinen?
- 4 Welche Zahl steht an der Spitze der Zahlenmauer?
- 5 Welche Zahlen fehlen in der Zahlenmauer von Susi und Tim?
- + mit vielen Tipps, Lösungsschlüsseln und Lösungswegen zu allen Aufgaben




Das komplette Paket, inkl. aller Aufgaben, Tipps, Lösungen und Lösungswege gibt es für alle Abonnenten von [sofatutor.com](https://www.sofatutor.com)



Was weißt du über Zahlenmauern?

Wähle alle richtigen Audios aus.



A

[sofatutor.com/ep/2Vdw](https://www.sofatutor.com/ep/2Vdw)

B

[sofatutor.com/ep/2Vdx](https://www.sofatutor.com/ep/2Vdx)

C

[sofatutor.com/ep/2Vdy](https://www.sofatutor.com/ep/2Vdy)

D

[sofatutor.com/ep/2Vdz](https://www.sofatutor.com/ep/2Vdz)

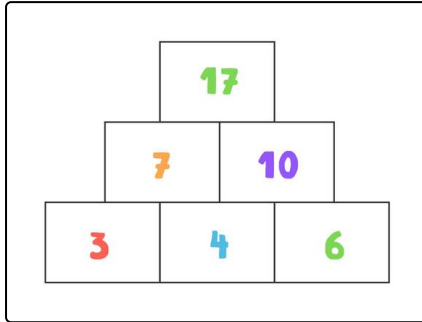


Unsere Tipps für die Aufgaben

1
von 5

Was weißt du über Zahlenmauern?

1. Tipp



Hier siehst du eine Zahlenmauer.

2. Tipp

Die größte Zahl steht immer im obersten Mauerstein.

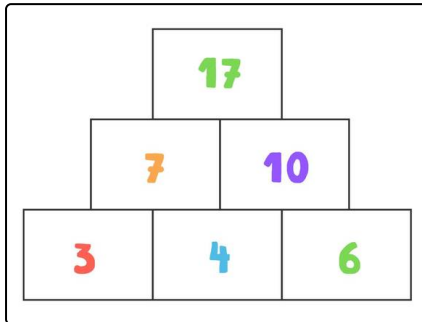


Lösungen und Lösungswege für die Aufgaben

1
von 5

Was weißt du über Zahlenmauern?

Lösungsschlüssel: B, D



Nico und Lilly schauen sich die Zahlenmauer auf dem Bild genau an.

Das finden sie heraus:

- Jede Reihe baut auf die untere Reihe auf.
- Die Zahlen in der Zahlenmauer werden von unten nach oben größer.
- Durch Plusaufgaben und Minusaufgaben können wir fehlende Zahlen finden.
- Zahlenmauern bestehen aus beliebig vielen Reihen. Sie können

3, 4 oder noch mehr Reihen haben.