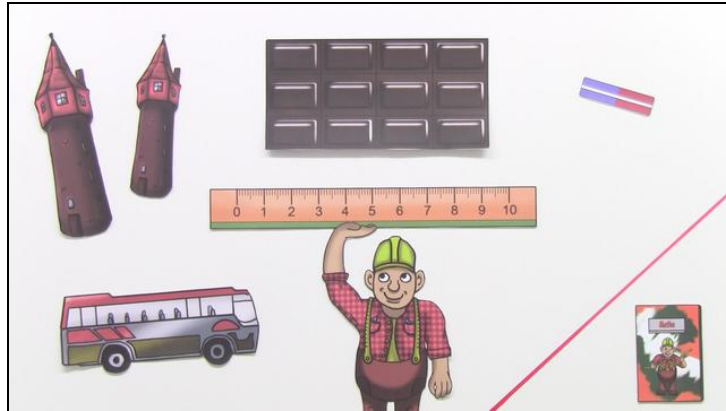




Arbeitsblätter zum Ausdrucken von [sofatutor.com](https://www.sofatutor.com)

# Meter



- 1 **Wie lang ist ein Meter?**
- 2 **Wie oft passt das Lineal in den Zollstock?**
- 3 **Welche Messgeräte muss Milena beim Messen nur ein Mal anlegen?**
- 4 **Wie lang sind die Gegenstände?**
- 5 **Mit welchem Messgerät misst du die Gegenstände?**
- 6 **Welche Längenangaben gehören zusammen?**
- + **mit vielen Tipps, Lösungsschlüsseln und Lösungswegen zu allen Aufgaben**




Das komplette Paket, **inkl. aller Aufgaben, Tipps, Lösungen und Lösungswege** gibt es für alle Abonnenten von [sofatutor.com](https://www.sofatutor.com)



## Wie lang ist ein Meter?

Wähle die richtige Lösung aus.



Stefans Schreibtisch ist genau 1 Meter lang.

Kannst du ihm sagen, wie viel das in Zentimetern ist?

A  
10 cm

B  
100 cm

C  
1000 cm

D  
1 cm




## Unsere Tipps für die Aufgaben

1  
von 6

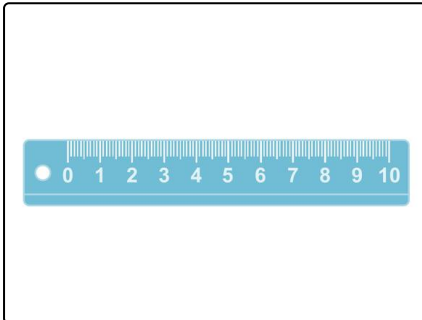
### Wie lang ist ein Meter?

#### 1. Tipp



Die Kanten eines Spielwürfels sind meistens 1 cm lang. Wie viele davon passen nebeneinander auf den Schreibtisch?

#### 2. Tipp



Dieses kleine Lineal ist 10 cm lang. Es passt bequem in deine Federtasche. Wie viele Lineale passen hintereinander auf den Schreibtisch?



## Lösungen und Lösungswege für die Aufgaben

1  
von 6

### Wie lang ist ein Meter?

**Lösungsschlüssel:** B

Stefans Schreibtisch ist genau **einen Meter** lang. Du sollst angeben, wie viel das **in Zentimetern** ist. Wir nehmen einen Spielwürfel und ein Lineal zur Hilfe:

- Die **Kante eines Spielwürfels** ist meistens **1 cm** lang. Der Tisch ist viel länger als ein Spielwürfel. Es passen nämlich 100 Würfel nebeneinander auf den Schreibtisch.
- Ein **kleines Lineal** mit einer Länge von **10 cm** passt bequem in deine Federtasche. Es ist also viel kürzer als der Tisch. Ganze 10 Lineale passen hintereinander auf den Schreibtisch.

Der Tisch ist also 100 cm lang. **1 Meter ist genauso lang wie 100 Zentimeter.**