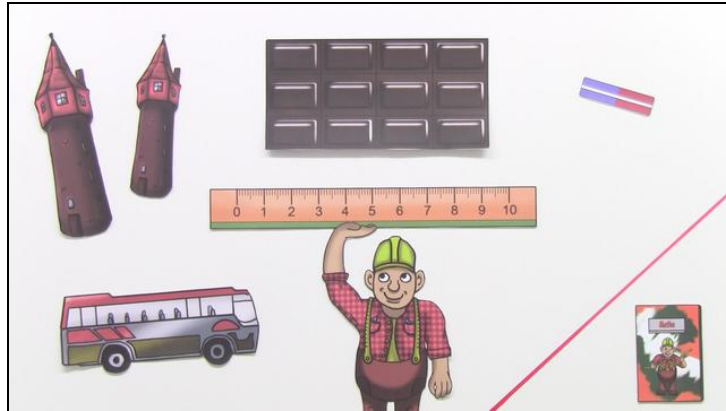




Arbeitsblätter zum Ausdrucken von [sofatutor.com](https://www.sofatutor.com)

Meter



- 1 **Wie lang ist ein Meter?**
- 2 **Wie oft passt das Lineal in den Zollstock?**
- 3 **Welche Messgeräte muss Milena beim Messen nur ein Mal anlegen?**
- 4 **Wie lang sind die Gegenstände?**
- 5 **Mit welchem Messgerät misst du die Gegenstände?**
- 6 **Welche Längenangaben gehören zusammen?**
- + **mit vielen Tipps, Lösungsschlüsseln und Lösungswegen zu allen Aufgaben**




Das komplette Paket, **inkl. aller Aufgaben, Tipps, Lösungen und Lösungswege** gibt es für alle Abonnenten von [sofatutor.com](https://www.sofatutor.com)



Wie lang ist ein Meter?

Wähle die richtige Lösung aus.



Stefans Schreibtisch ist genau 1 Meter lang.

Kannst du ihm sagen, wie viel das in Zentimetern ist?

A
10 cm

B
100 cm

C
1000 cm

D
1 cm




Unsere Tipps für die Aufgaben

1
von 6

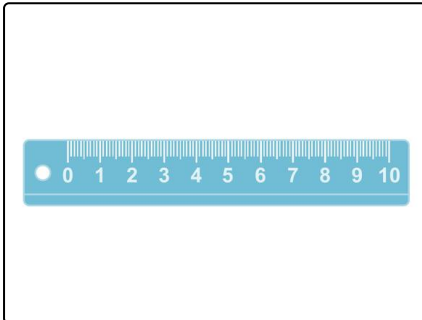
Wie lang ist ein Meter?

1. Tipp



Die Kanten eines Spielwürfels sind meistens 1 cm lang. Wie viele davon passen nebeneinander auf den Schreibtisch?

2. Tipp



Dieses kleine Lineal ist 10 cm lang. Es passt bequem in deine Federtasche. Wie viele Lineale passen hintereinander auf den Schreibtisch?



Lösungen und Lösungswege für die Aufgaben

1
von 6

Wie lang ist ein Meter?

Lösungsschlüssel: B

Stefans Schreibtisch ist genau **einen Meter** lang. Du sollst angeben, wie viel das **in Zentimetern** ist. Wir nehmen einen Spielwürfel und ein Lineal zur Hilfe:

- Die **Kante eines Spielwürfels** ist meistens **1 cm** lang. Der Tisch ist viel länger als ein Spielwürfel. Es passen nämlich 100 Würfel nebeneinander auf den Schreibtisch.
- Ein **kleines Lineal** mit einer Länge von **10 cm** passt bequem in deine Federtasche. Es ist also viel kürzer als der Tisch. Ganze 10 Lineale passen hintereinander auf den Schreibtisch.

Der Tisch ist also 100 cm lang. **1 Meter ist genauso lang wie 100 Zentimeter.**