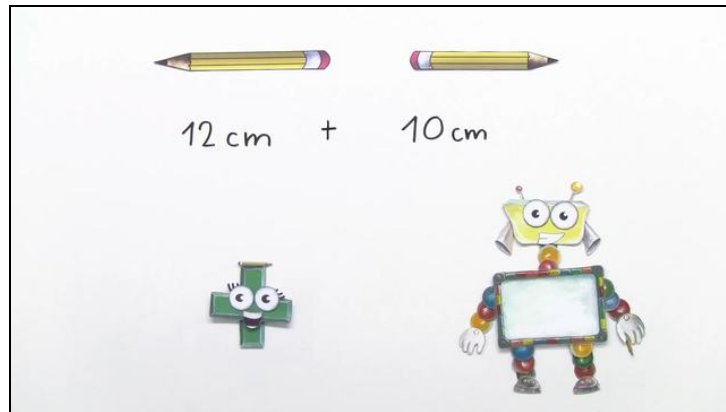




Arbeitsblätter zum Ausdrucken von [sofatutor.com](https://www.sofatutor.com)

Rechnen mit Längen



- 1 **Wie lang sind beide Stifte zusammen?**
- 2 **Wie lang sind beide Stöcke zusammen?**
- 3 **Wie viel bleibt übrig?**
- 4 **Wie viel Faden ist noch übrig? Berechne.**
- 5 **Wie lang muss der Gartenzaun sein?**
- 6 **Wie weit ist der Weg?**
- + **mit vielen Tipps, Lösungsschlüsseln und Lösungswegen zu allen Aufgaben**

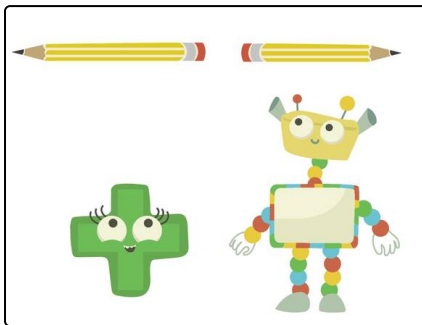


Das komplette Paket, **inkl. aller Aufgaben, Tipps, Lösungen und Lösungswege** gibt es für alle Abonnenten von [sofatutor.com](https://www.sofatutor.com)



Wie lang sind beide Stifte zusammen?

Wähle die richtige Lösung aus.



Lilly und Nico wollen herausfinden, wie lang ihre beiden Stifte zusammen sind. Lillys Stift ist **12cm** lang und Nicos Stift ist **10cm** lang.

Kannst du ihnen dabei helfen?

A
2 CM

B
20 CM

C
22 CM

D
12 CM



Unsere Tipps für die Aufgaben

1
von 6

Wie lang sind beide Stifte zusammen?

1. Tipp

Wenn beide Längen in der gleichen Längeneinheit angegeben sind, dann kannst du einfach die Zahlen addieren.

Nach dem Rechnen fügst du die Längeneinheit wieder hinzu.

2. Tipp

Beide Stiftlängen sind in Zentimetern angegeben.

3. Tipp

Rechne $12 + 10$.

Zähle erst die Einer zusammen, dann die Zehner.

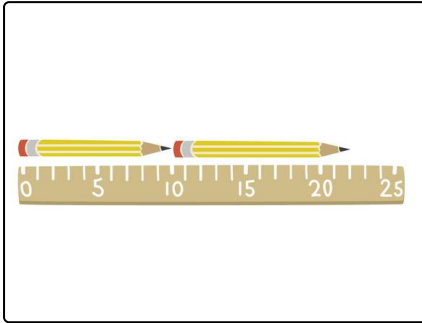


Lösungen und Lösungswege für die Aufgaben

1
von 6

Wie lang sind beide Stifte zusammen?

Lösungsschlüssel: C



Nico und Lilly wollen rausfinden, wie lang ihre beiden Stifte zusammen sind. Nicos Stift ist 10cm lang und Lillys Stift ist 12cm lang.

Beide Längen sind in Zentimetern angegeben. Nico weiß, dass er dann einfach die Zahlen addieren kann.

Er rechnet:

$$10\text{cm} + 12\text{cm} = 22\text{cm}.$$

Die beiden Bleistifte sind insgesamt **22cm** lang.