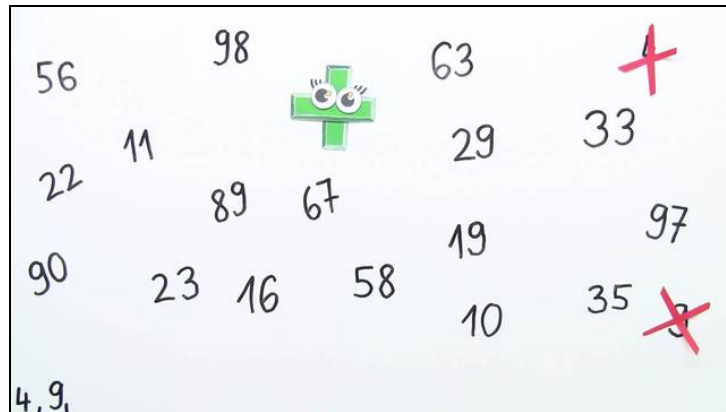




Arbeitsblätter zum Ausdrucken von [sofatutor.com](https://www.sofatutor.com)

## Zahlen bis 100 ordnen



- 1 Welche 30er-Zahlen kannst du sehen?
- 2 Welche Zahl ist die größte?
- 3 Auf welchen Zahlen sitzen die Tiere?
- 4 Auf welchen Zahlen sitzen die Tiere?
- 5 Welche Zahlen sind gesucht?
- 6 Auf welche Felder der Hundertertafel gehören die Tiere?
- + mit vielen Tipps, Lösungsschlüsseln und Lösungswegen zu allen Aufgaben




Das komplette Paket, inkl. aller Aufgaben, Tipps, Lösungen und Lösungswege gibt es für alle Abonnenten von [sofatutor.com](https://www.sofatutor.com)







## Welche 30er-Zahlen kannst du sehen?

Wähle alle 30er-Zahlen aus.



Nico und Lilly sind gerade in der Schule. Sie wollen so viele 30er-Zahlen wie möglich finden.

Kannst du Nico und Lilly dabei helfen?





## Unsere Tipps für die Aufgaben

1  
von 6

### Welche 30er-Zahlen kannst du sehen?

#### 1. Tipp

Alle 30er-Zahlen haben 3 Zehner.  
Es ist egal, wie viele Einer sie haben.

---

#### 2. Tipp

Der Zehner steht an der zweiten Stelle von rechts.

---

#### 3. Tipp

Hier siehst du ein paar Beispiele:

Bei der Zahl 24 steht die **2** auf der Zehnerstelle. Also hat die 24 genau **2 Zehner**.  
Bei der Zahl 68 steht die **6** auf der Zehnerstelle. Also hat die 68 genau **6 Zehner**.

---




## Lösungen und Lösungswege für die Aufgaben

1  
von 6

### Welche 30er-Zahlen kannst du sehen?

Lösungsschlüssel: B, D



Nico hilft Lilly beim Zahlen suchen. Die beiden Freunde wissen, dass 30er-Zahlen immer **3 Zehner** haben. Sie schauen sich die Zehner der Zahlen an. Sie finden die beiden 30er-Zahlen **33** und **35**.

Bei den Zahlen **43** und **3** haben Nico und Lilly auch die Ziffer **3** gefunden. Aber hier steht die **3** auf der Einerstelle. Deshalb sind die Zahlen **43** und **3** keine 30er-Zahlen.

Toll, nun haben sie die gesuchten Zahlen gefunden!