




Arbeitsblätter zum Ausdrucken von [sofatutor.com](https://www.sofatutor.com)

Das Zwanzigerfeld - Übung



- 1 Was weißt du alles über das Zwanzigerfeld?
- 2 Wie zeichnest du die Zahl 17 ins Zwanzigerfeld ein?
- 3 Welche Zahlen wurden in den Zwanzigerfeldern markiert?
- 4 Wie sieht die Zahl aus?
- 5 Auf welcher Zahl sitzt der Hund?
- 6 Welche Zahlen sind in den Zwanzigerfeldern dargestellt?
- + mit vielen Tipps, Lösungsschlüsseln und Lösungswegen zu allen Aufgaben



Das komplette Paket, inkl. aller Aufgaben, Tipps, Lösungen und Lösungswege gibt es für alle Abonnenten von [sofatutor.com](https://www.sofatutor.com)



Was weißt du alles über das Zwanzigerfeld?

Wähle die richtigen Antworten aus.



Nico und Lilli sehen sich das Zwanzigerfeld genau an.


Was können sie alles entdecken?

A



[sofatutor.com/ep/2TbM](https://www.sofatutor.com/ep/2TbM)

B



[sofatutor.com/ep/2TbN](https://www.sofatutor.com/ep/2TbN)

C



[sofatutor.com/ep/2TbP](https://www.sofatutor.com/ep/2TbP)

D



[sofatutor.com/ep/2TbQ](https://www.sofatutor.com/ep/2TbQ)



Unsere Tipps für die Aufgaben

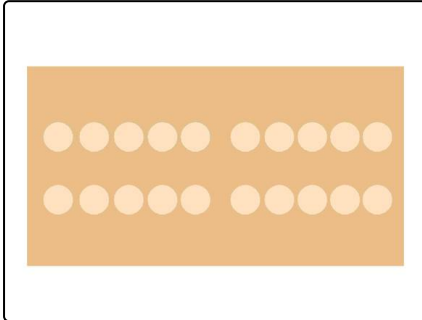
1
von 6

Was weißt du alles über das Zwanzigerfeld?

1. Tipp

Zeichne selbst ein Zwanzigerfeld auf ein Blatt Papier.

2. Tipp



Hier siehst du ein Zwanzigerfeld.

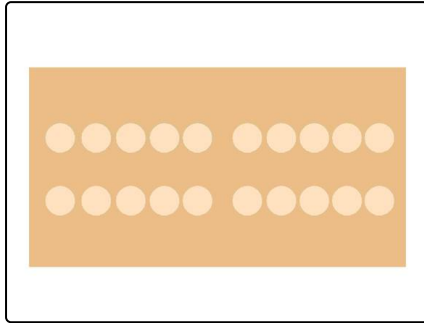


Lösungen und Lösungswege für die Aufgaben

1
von 6

Was weißt du alles über das Zwanzigerfeld?

Lösungsschlüssel: B, D



Nico und Lilli sehen sich das Zwanzigerfeld ganz genau an. Sie versuchen, sich die Struktur zu merken.

Lilli sagt: „Das Zwanzigerfeld besteht aus genau **20 Feldern**. Deswegen heißt es auch **Zwanzigerfeld**.“

Nico erklärt: „Stimmt. Das Zwanzigerfeld hat **2 Reihen**. In der oberen Reihe sind 10 Felder und in der unteren Reihe sind weitere 10 Felder.“

Die beiden Freunde wissen, dass man mit dem Zwanzigerfeld **die Zahlen zwischen 1 und 20 darstellen** kann. Ganz schön praktisch so ein Zwanzigerfeld!