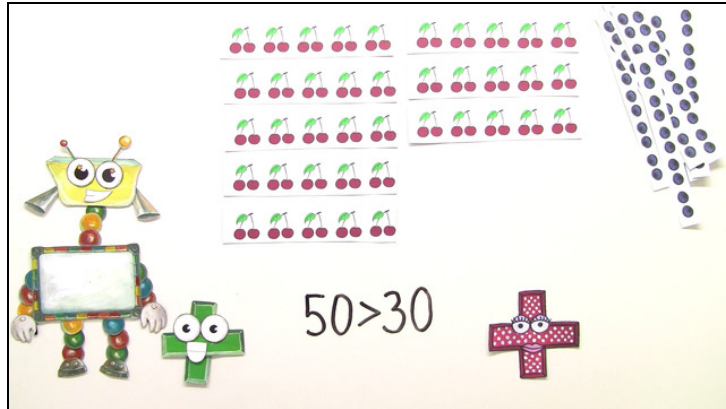




Arbeitsblätter zum Ausdrucken von [sofatutor.com](https://www.sofatutor.com)

Zehnerzahlen vergleichen und ordnen - Übung



- 1 **Wo stehen die Zehnerzahlen im Hunderterfeld?**
- 2 **Wie viele Gegenstände siehst du?**
- 3 **Wer möchte mehr essen?**
- + **mit vielen Tipps, Lösungsschlüsseln und Lösungswegen zu allen Aufgaben**



Das komplette Paket, **inkl. aller Aufgaben, Tipps, Lösungen und Lösungswege** gibt es für alle Abonnenten von [sofatutor.com](https://www.sofatutor.com)























Wo stehen die Zehnerzahlen im Hunderterfeld?

Fülle die Lücken mit den Zehnerzahlen.

Schau dir die Anzahl der Punkte an.

Wie viele Punkte sind es bis zum Kästchen?

90 70 100 50 80 30 20 40 60 10

		<input type="text" value="1"/>
		<input type="text" value="2"/>
		<input type="text" value="3"/>
		<input type="text" value="4"/>
		<input type="text" value="5"/>
		<input type="text" value="6"/>
		<input type="text" value="7"/>
		<input type="text" value="8"/>
		<input type="text" value="9"/>
		<input type="text" value="10"/>




Unsere Tipps für die Aufgaben

1
von 3

Wo stehen die Zehnerzahlen im Hunderterfeld?

1. Tipp

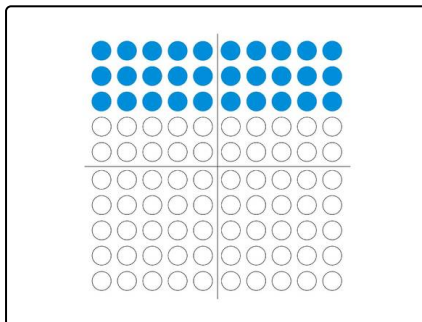


Die Zahl gibt an, wie viele Punkte du bis dahin gezählt hast. Du musst immer von ganz oben links mit dem Zählen anfangen.

2. Tipp

In einer Zeile sind 10 Punkte.

3. Tipp



Hier wird die Zahl 30 im Hunderterfeld dargestellt, da 30 Punkte eingefärbt sind.

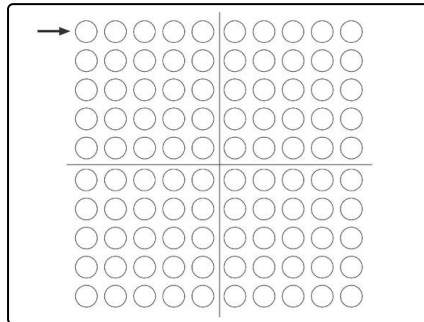


Lösungen und Lösungswege für die Aufgaben

1
von 3

Wo stehen die Zehnerzahlen im Hunderterfeld?

Lösungsschlüssel: 1: 10 // 2: 20 // 3: 30 // 4: 40 // 5: 50 // 6: 60 // 7: 70 // 8: 80 // 9: 90 // 10: 100



Die Zahlen sagen dir, wie viele Punkte du bis dahin im Hunderterfeld gezählt hast. Du musst immer von ganz oben links anfangen.

- Am Ende der ersten Zeile steht die Zahl 10, weil du in der ersten Zeile 10 Punkte zählst.
- Wenn du die erste **und** die zweite Zeile anschaust, zählst du 20 Punkte. Deshalb steht die Zahl 20 am Ende der zweiten Reihe.
- Wenn du die ersten drei Reihen zählst, kommst du auf 30 Punkte.
- Wenn du die ersten vier Reihen zählst, kommst du auf 40 Punkte.
- Als Nächstes kommt die 50, weil du bis zu diesem Kästchen 50 Punkte zählst.

Und so geht es immer weiter. Wenn du alle Punkte vom Hunderterfeld zählst, kommst du auf 100 Punkte. Daher heißt es auch Hunderterfeld.