




Arbeitsblätter zum Ausdrucken von [sofatutor.com](https://www.sofatutor.com)

# Zahlen zerlegen



- 1 **Wie viele Möglichkeiten gibt es, die 9 zu zerlegen?**
- 2 **Wie zerlegt man Zahlen?**
- 3 **Wie kannst du die Zahl 8 zerlegen?**
- 4 **Wie kann die 5 zerlegt werden?**
- 5 **Welche Zahlen können in zwei gleich große Gruppen aufgeteilt werden?**
- 6 **Wie kann eine Zahl gleichmäßig aufgeteilt werden?**
- + **mit vielen Tipps, Lösungsschlüsseln und Lösungswegen zu allen Aufgaben**

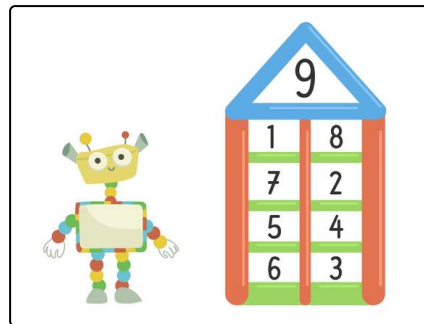


Das komplette Paket, **inkl. aller Aufgaben, Tipps, Lösungen und Lösungswege** gibt es für alle Abonnenten von [sofatutor.com](https://www.sofatutor.com)



## Wie viele Möglichkeiten gibt es, die 9 zu zerlegen?

Wähle die richtige Aussage aus.



**A**

1

**B**

2

**C**

3

**D**

4

**E**

5

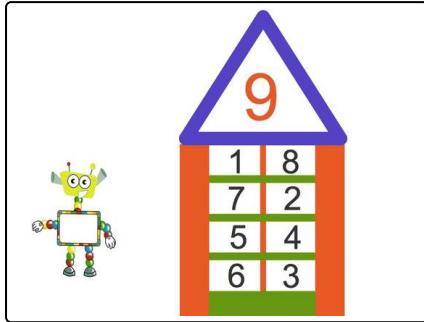


## Unsere Tipps für die Aufgaben

1  
von 6

### Wie viele Möglichkeiten gibt es, die 9 zu zerlegen?

#### 1. Tipp



In diesem Haus siehst du alle Möglichkeiten.

1 und 8 ist die gleiche Aufteilung wie 8 und 1.



## Lösungen und Lösungswege für die Aufgaben

1  
von 6

### Wie viele Möglichkeiten gibt es, die 9 zu zerlegen?

**Lösungsschlüssel:** D

Die 9 Kinder sollen in zwei Gruppen aufgeteilt werden.

Es gibt viele solcher Möglichkeiten, die Kinder in zwei Gruppen aufzuteilen. Wie viele sind es?

- In der einen Gruppe sind 8 Kinder, dann ist in der anderen Gruppe 1 Kind.
- In der einen Gruppe sind 2 Kinder, dann sind in der anderen Gruppe 7 Kinder.
- In der einen Gruppe sind 4 Kinder, dann sind in der anderen Gruppe 5 Kinder.
- In der einen Gruppe sind 6 Kinder, dann sind in der anderen Gruppe 3 Kinder.

Das sind zusammen 4 Möglichkeiten.