




Arbeitsblätter zum Ausdrucken von [sofatutor.com](https://www.sofatutor.com)

Plusaufgaben – Einführung



- 1 Welche Aufgaben sind Plusaufgaben?
- 2 Wie werden zwei Zahlen zusammengerechnet?
- 3 Wie rechnest du die Kirschen zusammen?
- 4 Welche Plusaufgabe kannst du erkennen?
- 5 Wie viele Bananen sind es?
- + mit vielen Tipps, Lösungsschlüsseln und Lösungswegen zu allen Aufgaben



Das komplette Paket, **inkl. aller Aufgaben, Tipps, Lösungen und Lösungswege** gibt es für alle Abonnenten von [sofatutor.com](https://www.sofatutor.com)



Welche Aufgaben sind Plusaufgaben?

Wähle die Plusaufgaben aus.

A
 $3 + 2$

B
 $3 - 2$

C
 $3 \cdot 2$

D
 $2 : 4$

E
 $2 + 4$

F
 $2 \cdot 4$



Unsere Tipps für die Aufgaben



1
von 5

Welche Aufgaben sind Plusaufgaben?


1. Tipp



Lilli ist ein Plus-Zeichen.


Plusaufgaben erkennst du an dem Plus-Zeichen.

2. Tipp




Für Geteilt-Aufgaben verwendest du dieses Zeichen.

3. Tipp



Für Mal-Aufgaben schreibe einen Punkt.

4. Tipp



Hier siehst du ein Minus-Zeichen.

$8 - 5$ ist eine Minus-Aufgabe.




Lösungen und Lösungswege für die Aufgaben

1
von 5

Welche Aufgaben sind Plusaufgaben?

Lösungsschlüssel: A, E



Plusaufgaben sind sehr wichtig.

Plusaufgaben erkennst du an dem Zeichen: +.

Hier siehst du zwei Beispiele für Plusaufgaben:

- $3 + 2$,
- $2 + 4$.

Und was kommt bei diesen Aufgaben als Ergebnis heraus?

Nimm mal drei Äpfel und tue zwei weitere dazu. Wie viele Äpfel hast du nun? Es sind 5 Äpfel. Das schreibst du so:

$$3 + 2 = 5.$$