



Arbeitsblätter zum Ausdrucken von [sofatutor.com](https://www.sofatutor.com)

Sicher im Straßenverkehr – Vorbeifahren an einem Hindernis



- 1 Welches Bild gehört zum richtigen Schritt? Ermittle.
- 2 Was bedeutet dieses Verkehrszeichen? Erkläre.
- 3 Wie lautet die Reihenfolge, die du beim Vorbeifahren an Hindernissen beachten musst? Bestimme.
- 4 Was muss bei den einzelnen Schritten des Vorbeifahrens beachtet werden? Erläutere.
- 5 Was hat Tim hier vergessen? Erkläre.
- 6 Was bedeuten diese Schilder? Erkläre.
- + mit vielen Tipps, Lösungsschlüsseln und Lösungswegen zu allen Aufgaben



Das komplette Paket, inkl. aller Aufgaben, Tipps, Lösungen und Lösungswege gibt es für alle Abonnenten von [sofatutor.com](https://www.sofatutor.com)



Welches Bild gehört zum richtigen Schritt? Ermittle.

Schreibe die Schritte unter die Bilder.

Handzeichen rechts

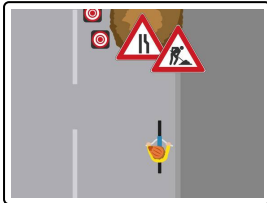
Verkehr beachten

Umsehen

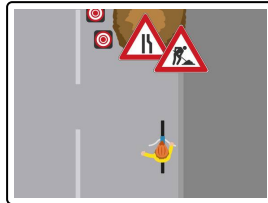
Vorbeifahren

Einordnen

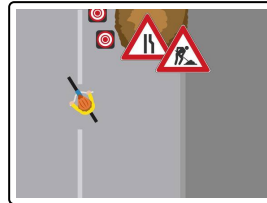
Handzeichen links



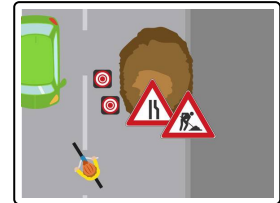
1



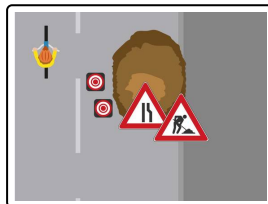
2



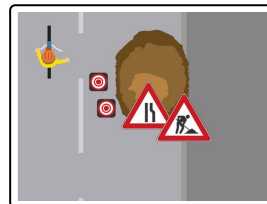
3



4



5



6



Unsere Tipps für die Aufgaben

1
von 6

Welches Bild gehört zum richtigen Schritt? Ermittle.

1. Tipp

Du musst zunächst feststellen, ob noch jemand hinter dir ist.

2. Tipp

Wie zeigst du an, dass du abbiegen willst?



Lösungen und Lösungswege für die Aufgaben

1
von 6

Welches Bild gehört zum richtigen Schritt? Ermittle.

Lösungsschlüssel: 1: Umsehen // 2: Handzeichen links // 3: Einordnen // 4: Verkehr beachten // 5: Vorbeifahren // 6: Handzeichen rechts

Um sicher an einem Hindernis vorbeizufahren, beachte diese Schritte in der richtigen Reihenfolge:

- Sieh dich zunächst um.
- Danach hältst du deine links Hand heraus, um anzuzeigen, dass du links abbiegen möchtest.
- Anschließend ordnest du dich ein und schaust, ob dir Verkehr entgegenkommt.
- Du kannst dann am Hindernis vorbeifahren.
- Zeige danach an, dass du wieder auf deine Fahrbahn willst. Dazu hältst du deine rechte Hand heraus.