



Arbeitsblätter zum Ausdrucken von [sofatutor.com](https://www.sofatutor.com)

Sicher im Straßenverkehr – Wichtige Schilder



- 1 Was bedeutet das gezeigte Straßenschild? Nenne die Bedeutung.
- 2 Welche Bedeutung haben die gezeigten Schilder? Benenne sie.
- 3 Was musst du an den Schildern machen? Beschreibe es.
- 4 Was sagen die folgenden Schilder aus? Benenne sie.
- 5 Welche Schilder sind Gebots- und welche Verbotsschilder? Entscheide dich.
- 6 Wie musst du dich an folgenden Schildern verhalten? Erkläre.
- + mit vielen Tipps, Lösungsschlüsseln und Lösungswegen zu allen Aufgaben




Das komplette Paket, inkl. aller Aufgaben, Tipps, Lösungen und Lösungswege gibt es für alle Abonnenten von [sofatutor.com](https://www.sofatutor.com)



Was bedeutet das gezeigte Straßenschild? Nenne die Bedeutung.

Wähle die richtige Bedeutung aus.



nur rechts abbiegen erlaubt **A**

Einbahnstraße **B**

Einfahrt verboten **C**

Überholen verboten **D**



Unsere Tipps für die Aufgaben

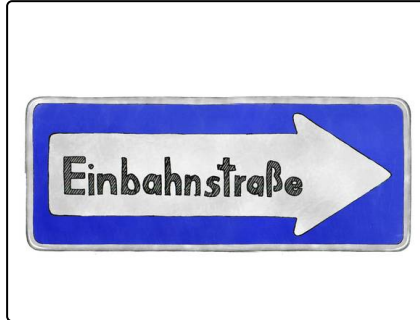
1
von 6

Was bedeutet das gezeigte Straßenschild? Nenne die Bedeutung.

1. Tipp

Am Ende welcher Straße steht dieses Schild?

2. Tipp






Lösungen und Lösungswege für die Aufgaben

1
von 6

Was bedeutet das gezeigte Straßenschild? Nenne die Bedeutung.

Lösungsschlüssel: C



Am Ende einer Einbahnstraße findest du dieses Schild. Es besteht aus einem roten Kreis mit einem weißen, waagerechten Balken in der Mitte.

Dieses Schild sagt dir, dass du in dieses Ende der Straße nicht einfahren darfst. Meist ist die Straße sehr eng. Daher passt nur ein Auto hindurch. Fahre also in solche Straße niemals hinein, sondern suche einen anderen Weg.