




Arbeitsblätter zum Ausdrucken von [sofatutor.com](https://www.sofatutor.com)

Was ist ein Quader?



- 1 Welche Begriffe sind gesucht? Gib an.
 - 2 Welche Eigenschaften haben Quader? Nenne sie.
 - 3 Welche Gegenstände können durch Quader beschrieben werden? Entscheide.
 - 4 Welche Eigenschaften passen zu dem Quader? Entscheide.
 - 5 Welche Figuren ergeben zusammen einen Quader? Entscheide.
 - 6 Wie viele Ecken, Kanten und Flächen haben diese Figuren? Ordne zu.
- + mit vielen Tipps, Lösungsschlüsseln und Lösungswegen zu allen Aufgaben



Das komplette Paket, inkl. aller Aufgaben, Tipps, Lösungen und Lösungswege gibt es für alle Abonnenten von [sofatutor.com](https://www.sofatutor.com)



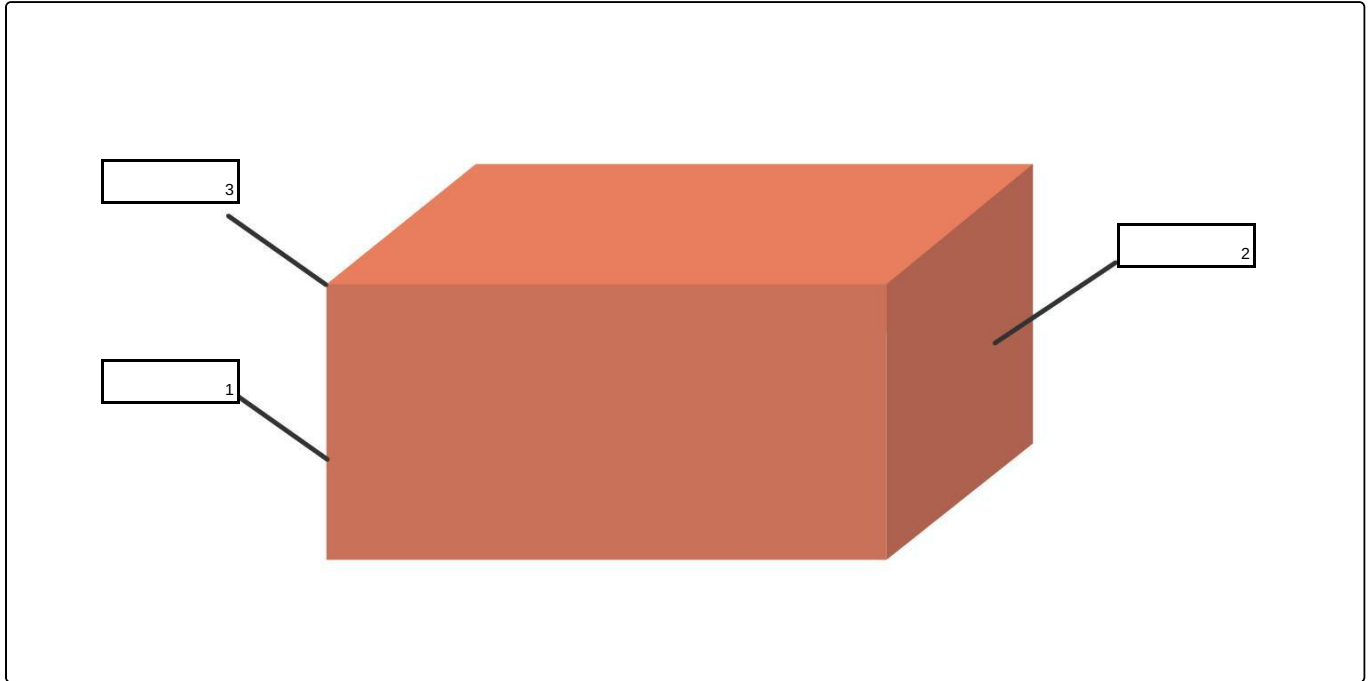
Welche Begriffe sind gesucht? Gib an.

Schreibe die passenden Begriffe in die Lücken.

Ecke

Kante

Fläche





Unsere Tipps für die Aufgaben

1
von 6

Welche Begriffe sind gesucht? Gib an.

1. Tipp

Ein Rechteck ist zum Beispiel eine Fläche.

2. Tipp

Ein Quader hat

- 12 Kanten,
 - 8 Ecken und
 - 6 Flächen.
-

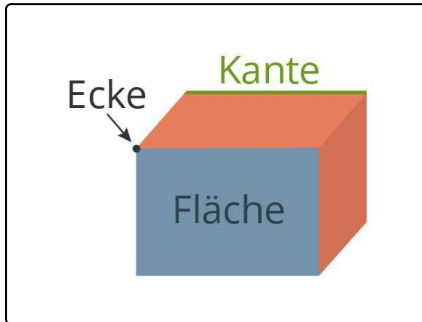


Lösungen und Lösungswege für die Aufgaben

1
von 6

Welche Begriffe sind gesucht? Gib an.

Lösungsschlüssel: 1: Kante // 2: Fläche // 3: Ecke



Ein Quader ist ein Körper mit besonderen Eigenschaften.

Ein Quader hat 12 Kanten, 8 Ecken und 6 Flächen. Jeweils zwei Flächen sind gleich groß.

Ebenso sind jeweils 4 Kanten gleich lang.