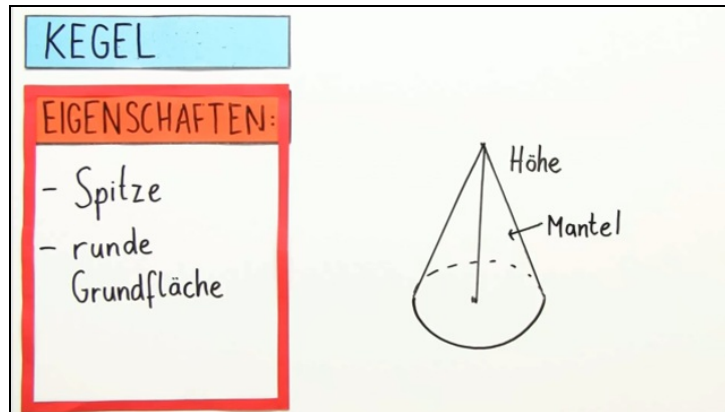




Arbeitsblätter zum Ausdrucken von [sofatutor.com](https://www.sofatutor.com)

Der Kegel



- 1 Welche Figuren haben die Form eines Kegels? Entscheide.
- 2 Welche Eigenschaften hat der Kegel? Gib an.
- 3 Welche Abbildungen zeigen einen Kegel? Entscheide.
- 4 Wie viele Ecken, Kanten und Flächen hat ein Kegel? Bestimme die Anzahl.
- 5 Welcher Kegel ist der höchste? Ordne die Kegel der Höhe nach.
- 6 Welcher Kegel hat die Form der Burgspitze? Entscheide.
- + mit vielen Tipps, Lösungsschlüsseln und Lösungswegen zu allen Aufgaben

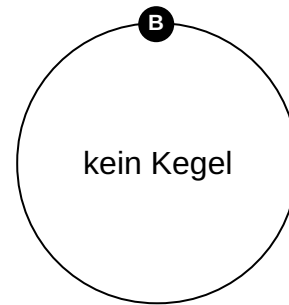
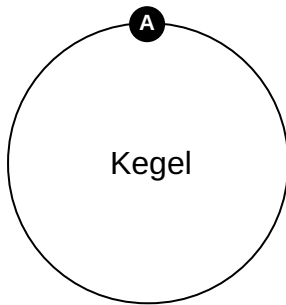



Das komplette Paket, inkl. aller Aufgaben, Tipps, Lösungen und Lösungswege gibt es für alle Abonnenten von [sofatutor.com](https://www.sofatutor.com)



Welche Figuren haben die Form eines Kegels? Entscheide.

Ordne die Figuren zum richtigen Feld.






Unsere Tipps für die Aufgaben

1
von 6

Welche Figuren haben die Form eines Kegels? Entscheide.

1. Tipp



Dies ist ein Kegel. Er hat eine Spitze und eine runde Grundfläche.



Lösungen und Lösungswege für die Aufgaben

1
von 6

Welche Figuren haben die Form eines Kegels? Entscheide.

Lösungsschlüssel: A: 2, 4, 5, 6, 7 // B: 1, 3

Hier sehen wir verschiedene Figuren. Ein Körper ist ein Kegel, wenn er eine Spitze und eine runde Grundfläche hat.