




Arbeitsblätter zum Ausdrucken von [sofatutor.com](https://www.sofatutor.com)

Fit für die Prüfung 2



- 1 **Was bedeuten die folgenden Verkehrsschilder? Erkläre sie.**
- 2 Was ist eine Fahrradprüfung? Erkläre.
- 3 Wann musst du beim Linksabbiegen über deine linke Schulter schauen? Entscheide.
- 4 Wie kannst du hier sicher nach links abbiegen? Beschreibe.
- 5 Warum hat der Autofahrer hier die Vorfahrt? Erläutere.
- 6 Welche Reihenfolge bei der Weiterfahrten der Autofahrer ist hier richtig? Bestimme.
- + mit vielen Tipps, Lösungsschlüsseln und Lösungswegen zu allen Aufgaben



Das komplette Paket, **inkl. aller Aufgaben, Tipps, Lösungen und Lösungswege** gibt es für alle Abonnenten von [sofatutor.com](https://www.sofatutor.com)



Was bedeuten die folgenden Verkehrsschilder? Erkläre sie.

Verbinde das Verkehrsschild mit der richtigen Bedeutung.



A

[sofatutor.com/ep/2AP8](https://www.sofatutor.com/ep/2AP8)



B

[sofatutor.com/ep/2APa](https://www.sofatutor.com/ep/2APa)



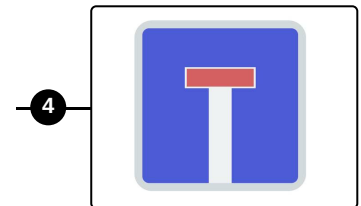

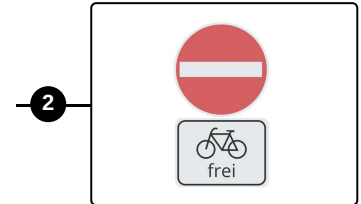
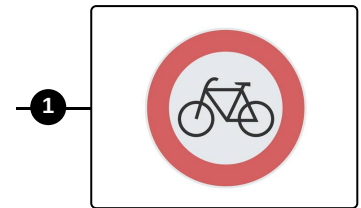
C

[sofatutor.com/ep/2APc](https://www.sofatutor.com/ep/2APc)



D

[sofatutor.com/ep/2APe](https://www.sofatutor.com/ep/2APe)





Unsere Tipps für die Aufgaben

1
von 6

Was bedeuten die folgenden Verkehrsschilder? Erkläre sie.

1. Tipp

Rot heißt meist im Straßenverkehr, dass etwas verboten ist.

2. Tipp

Es gibt unter bestimmten Verkehrsschildern Zusatzschilder, die das Verbot für eine bestimmte Gruppe aufhebt.



Lösungen und Lösungswege für die Aufgaben

1
von 6

Was bedeuten die folgenden Verkehrsschilder? Erkläre sie.

Lösungsschlüssel: A—3 // B—1 // C—4 // D—2



Ohne Verkehrsschilder würde es auf den Straßen ein großes Chaos geben. Auch für Radfahrer gibt es wichtige Verkehrsschilder, die du kennen solltest.