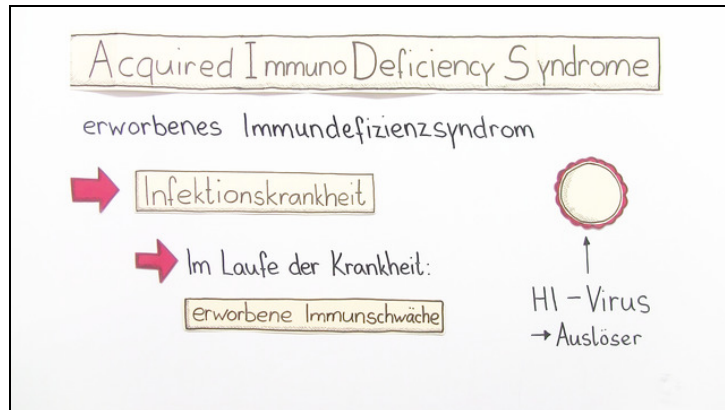




Arbeitsblätter zum Ausdrucken von [sofatutor.com](https://www.sofatutor.com)

Viruserkrankungen - HIV / AIDS



- 1 **Bestimme den Kontinent, auf dem die meisten AIDS-Erkrankten leben.**
- 2 Zeige auf, dass es wichtig ist, sich vor AIDS zu schützen.
- 3 Fasse zusammen, über welche Körperflüssigkeiten der HI-Virus übertragen werden kann.
- 4 Erkläre, wieso der HI-Virus so erfolgreich ist.
- 5 Stelle HIV und AIDS gegenüber.
- 6 Prüfe den Aussagegehalt des Diagramms zum Verlauf einer unbehandelten HIV-Infektion.
- + mit vielen Tipps, Lösungsschlüsseln und Lösungswegen zu allen Aufgaben



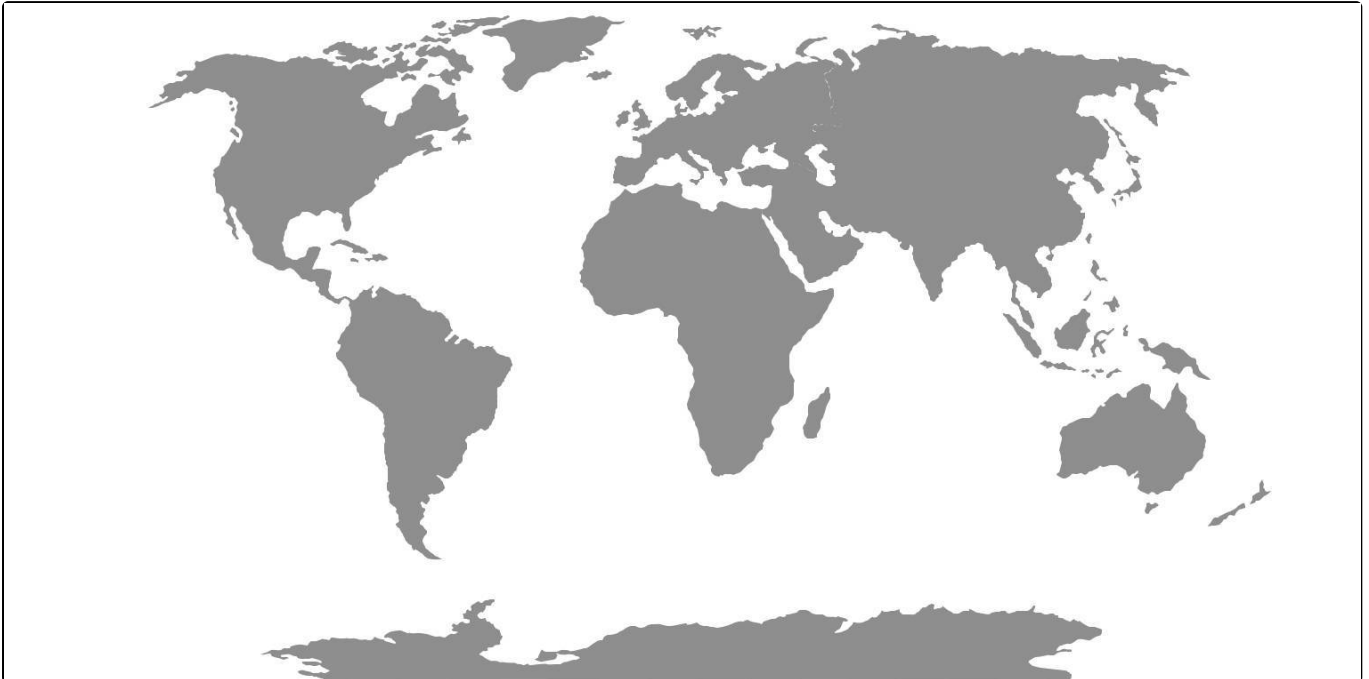
Das komplette Paket, inkl. aller Aufgaben, Tipps, Lösungen und Lösungswege gibt es für alle Abonnenten von [sofatutor.com](https://www.sofatutor.com)



Bestimme den Kontinent, auf dem die meisten AIDS-Erkrankten leben.

Markiere den Kontinent, auf dem die meisten AIDS-Erkrankten leben.

 viele AIDS-Erkrankungen





Unsere Tipps für die Aufgaben

1
von 6

Bestimme den Kontinent, auf dem die meisten AIDS-Erkrankten leben.

1. Tipp




Diesen Anblick findest du nur auf dem gesuchten Kontinent. Hier leben Elefanten und Giraffen in den Savannen.

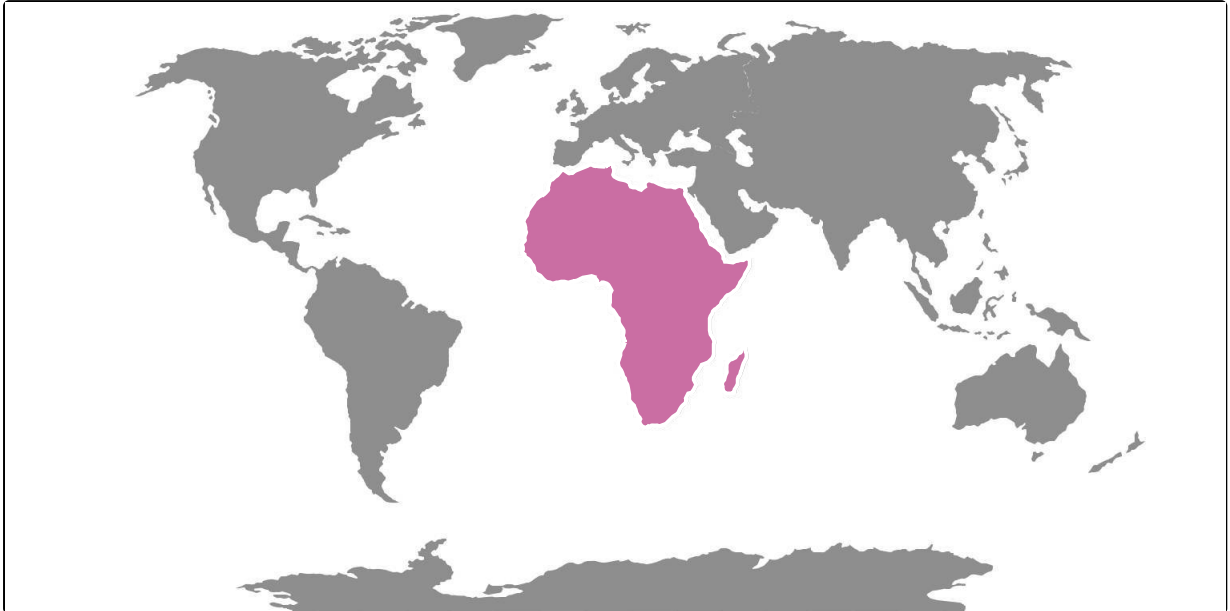


Lösungen und Lösungswege für die Aufgaben

1
von 6

Bestimme den Kontinent, auf dem die meisten AIDS-Erkrankten leben.

 viele AIDS-Erkrankungen



In einigen Gebieten in **Afrika** sind über 20 % der Bevölkerung, also **jeder fünfte**, an AIDS erkrankt. Dies liegt daran, dass die medizinischen und Hygienestandards in Afrika nicht ausreichend sind. Außerdem wissen viele Einwohner gar nicht, was AIDS ist, wie es übertragen wird und wie man sich davor schützen kann. Hinzu kommt, dass das Kondom beim Geschlechtsverkehr nicht verwendet wird. Der HI-Virus wird aber hauptsächlich über den **ungeschützten Geschlechtsverkehr** übertragen.