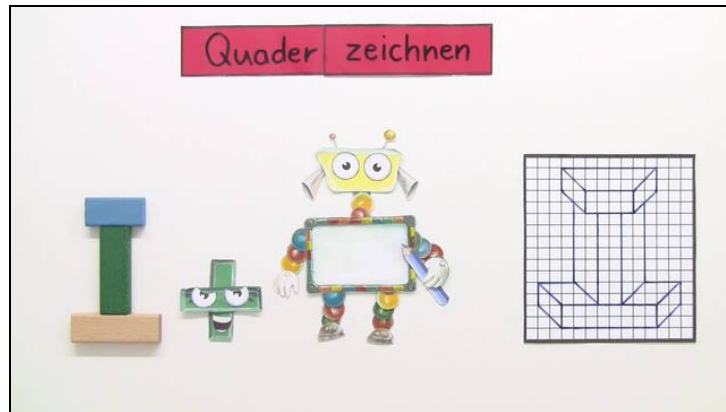




Arbeitsblätter zum Ausdrucken von [sofatutor.com](https://www.sofatutor.com)

# Quader als Schrägbild zeichnen



- 1 **Wie zeichnest du das Schrägbild eines Quaders? Gib an.**
  - 2 Welche Schrägbilder sind von einem Quader? Bestimme.
  - 3 Wie fertigst du ein Schrägbild eines Quaders an? Beschreibe.
  - 4 Zu welchem Schrägbild passt dieses unfertige Schrägbild? Prüfe.
  - 5 Welche Quader passen? Vergleiche.
  - 6 Welche unvollständigen Schrägbilder passen zu den fertigen Schrägbildern? Ordne zu.
- + mit vielen Tipps, Lösungsschlüsseln und Lösungswegen zu allen Aufgaben

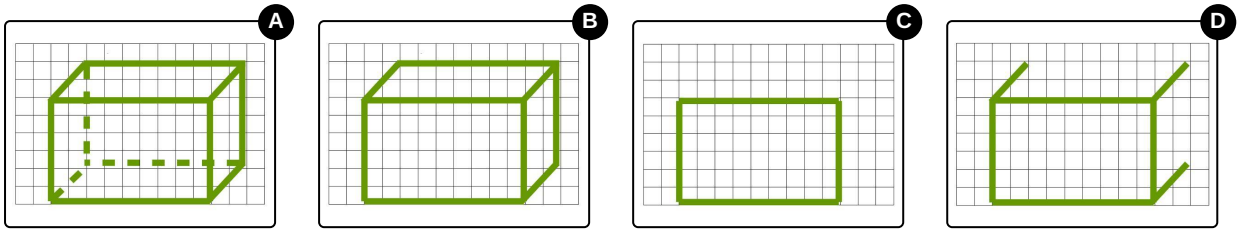


Das komplette Paket, **inkl. aller Aufgaben, Tipps, Lösungen und Lösungswege** gibt es für alle Abonnenten von [sofatutor.com](https://www.sofatutor.com)



## Wie zeichnest du das Schrägbild eines Quaders? Gib an.

Bringe die Bilder in die richtige Reihenfolge.



RICHTIGE REIHENFOLGE



## Unsere Tipps für die Aufgaben

1  
von 6

### Wie zeichnest du das Schrägbild eines Quaders? Gib an.

#### 1. Tipp

Die Vorderseite des Quaders ist ein Rechteck. Dieses Rechteck hilft dir beim Erstellen eines Schrägbildes.

---

#### 2. Tipp

Überlege dir, wie du ein Schrägbild zeichnen würdest.

---




## Lösungen und Lösungswege für die Aufgaben

1  
von 6

### Wie zeichnest du das Schrägbild eines Quaders? Gib an.

Lösungsschlüssel: C, D, B, A



1. Um das Schrägbild eines Quaders zu zeichnen, ist es ratsam, zunächst ein Rechteck anzufertigen.
2. Anschließend wird von den oberen Ecken und von der Ecke rechts unten eine diagonale Linie nach rechts oben gezogen.
3. Nun werden die diagonalen Linien miteinander verbunden.
4. Der Quader ist fast fertig. Die Kanten, die sich hinter den vorderen Flächen befinden, sind nun noch nicht sichtbar. Um diese *sichtbar* zu machen, ziehst du an der Stelle, wo sich die Kanten befinden, gestrichelte Linien.