



Arbeitsblätter zum Ausdrucken von [sofatutor.com](https://www.sofatutor.com)

Siebenerreihe (2)



- 1 **Wo findest du Aufgaben der Malreihe 7?**
- 2 **Wie sieht die Plusaufgabe zu jeder Malaufgabe aus?**
- 3 **Welche Malaufgabe kannst du in den Bildern erkennen?**
- 4 **Wie viele Bonbons sind es?**
- 5 **Wie ist das Ergebnis der Malaufgabe?**
- 6 **Was ist das Ergebnis?**
- + **mit vielen Tipps, Lösungsschlüsseln und Lösungswegen zu allen Aufgaben**




Das komplette Paket, **inkl. aller Aufgaben, Tipps, Lösungen und Lösungswege** gibt es für alle Abonnenten von [sofatutor.com](https://www.sofatutor.com)



Wo findest du Aufgaben der Malreihe 7?

Markiere die Aufgaben der Malreihe 7.

 Malreihe 7





Unsere Tipps für die Aufgaben

1
von 6

Wo findest du Aufgaben der Malreihe 7?

1. Tipp

Die 7 muss in der Aufgabe enthalten sein.

2. Tipp

Es handelt sich um Malaufgaben.


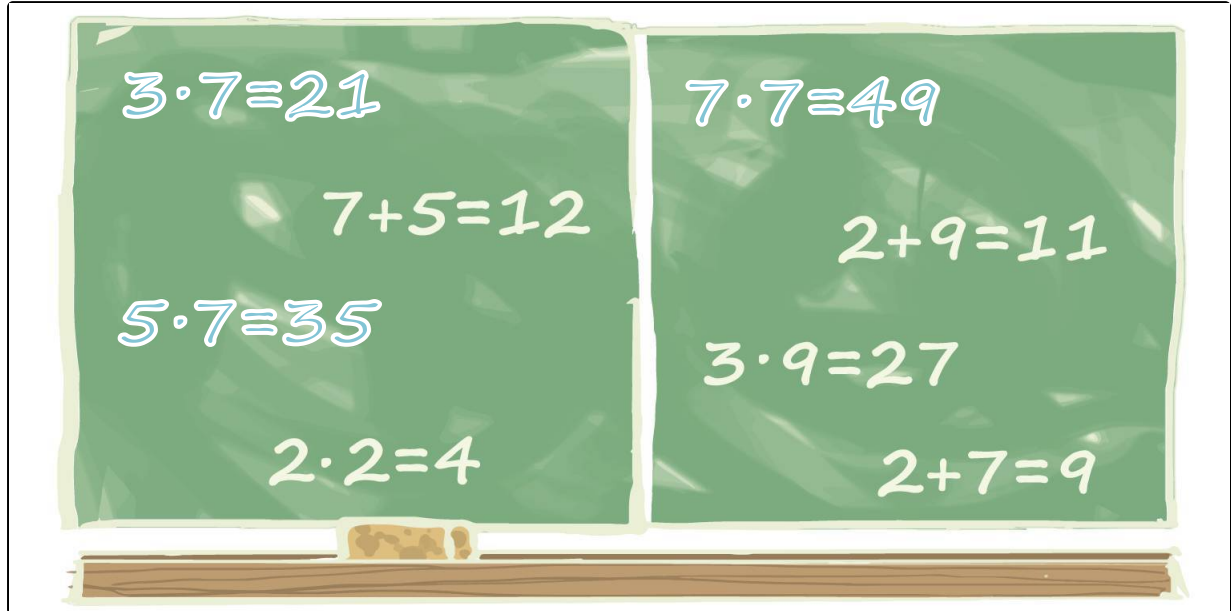


Lösungen und Lösungswege für die Aufgaben

1
von 6

Wo findest du Aufgaben der Malreihe 7?

 Malreihe 7



Hier musst du die Malreihe der 7 suchen. Dabei muss die 7 in der Aufgabe enthalten sein. Außerdem soll es eine Malaufgabe sein. Eine Malaufgabe hat immer einen Malpunkt (\cdot).

Diese Aufgaben gehören zur Malreihe der 7:

- $3 \cdot 7 = 21$
- $5 \cdot 7 = 35$
- $7 \cdot 7 = 49$