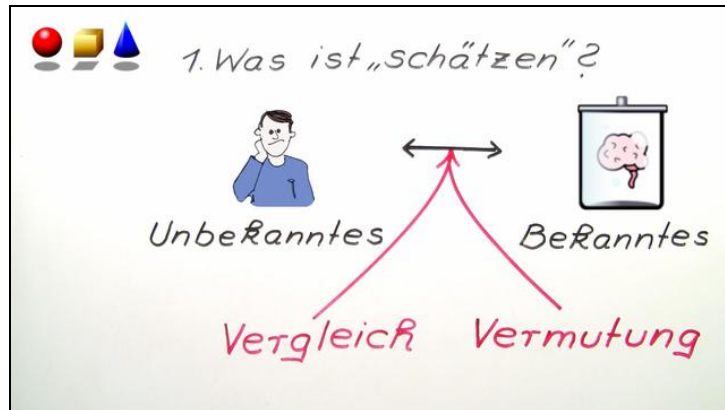




Arbeitsblätter zum Ausdrucken von [sofatutor.com](https://www.sofatutor.com)

Rauminhalte schätzen



- 1 **Bestimme das Volumen mehrerer Gegenstände aus dem Alltag.**
- 2 **Gib eine Schätzung für die Volumina unterschiedlicher Gegenstände an.**
- 3 **Nenne Schätzungen für die Rauminhalte der angegebenen Gegenstände.**
- 4 **Ermittle eine Schätzung für das Tankvolumen eines Autos.**
- 5 **Bestimme, wie viele Tassen Kaffee Oma Ida mit einer vollen Kaffeekanne eingießen kann.**
- 6 **Bestimme das Volumen eines Güterwagens.**
- + **mit vielen Tipps, Lösungsschlüsseln und Lösungswegen zu allen Aufgaben**






Das komplette Paket, **inkl. aller Aufgaben, Tipps, Lösungen und Lösungswege** gibt es für alle Abonnenten von [sofatutor.com](https://www.sofatutor.com)



Bestimme das Volumen mehrerer Gegenstände aus dem Alltag.

Sortiere die Gegenstände der Größe nach. Beginne mit dem kleinsten Volumen.



RICHTIGE REIHENFOLGE



Unsere Tipps für die Aufgaben

1
von 6

Bestimme das Volumen mehrerer Gegenstände aus dem Alltag.

1. Tipp

Um sicher zu gehen, kannst du dir jeweils deine Schätzungen der Volumina für Cocktailglas, Haus, Spielwürfel, Volleyball und Zahnpastatube auf einen Zettel schreiben und dann miteinander vergleichen.



Lösungen und Lösungswege für die Aufgaben

1
von 6

Bestimme das Volumen mehrerer Gegenstände aus dem Alltag.

Lösungsschlüssel: D, E, A, C, B

Folgendermaßen ließen sich die Rauminhalte der Gegenstände schätzen. Wir beginnen mit dem Kleinsten:

Spielwürfel: 1 cm^3

Zahnpastatube: 100 ml

Cocktailglas: 300 ml

Volleyball: 4 dm^3

Haus: 1000 m^3 .