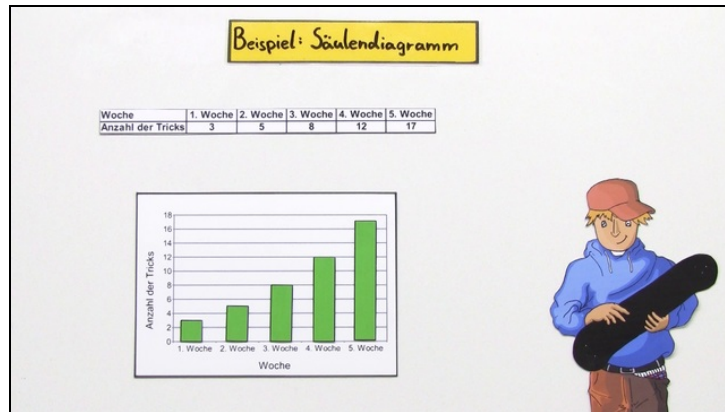




Arbeitsblätter zum Ausdrucken von sofator.com

Säulen- und Balkendiagramm



- 1 **Gib das Diagramm an, welches die Anzahl der Siege richtig darstellt.**
- 2 Vervollständige die Sätze über Diagramme.
- 3 Gib an, wie viele Tricks Alexander auf seinem Skateboard zum jeweiligen Zeitpunkt beherrschte.
- 4 Untersuche, wie sich die Froschpopulation des Teiches in den letzten Jahren entwickelt hat.
- 5 Erkläre, wie ein passendes Diagramm erstellt werden könnte.
- 6 Werte das Balkendiagramm über den Besitz von Mediengeräten in einer 7. Klassenstufe aus.
- + mit vielen Tipps, Lösungsschlüsseln und Lösungswegen zu allen Aufgaben



Das komplette Paket, inkl. aller Aufgaben, Tipps, Lösungen und Lösungswege gibt es für alle Abonnenten von sofator.com

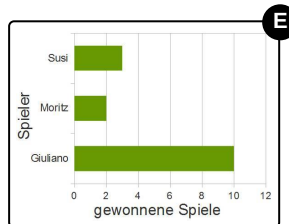
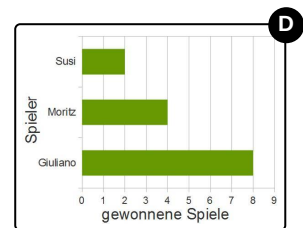
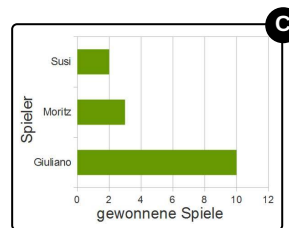
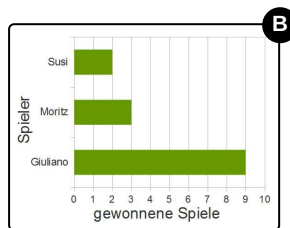
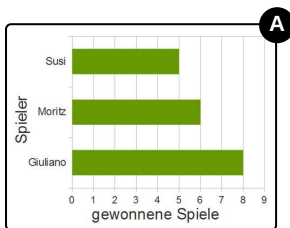


Gib das Diagramm an, welches die Anzahl der Siege richtig darstellt.

Wähle das richtige Diagramm aus.



Die Freunde Susi, Moritz und Giuliano lieben es, gemeinsam Fußball zu spielen. Seit einiger Zeit spielen die drei auch auf dem neuen Tischkicker, den Giuliano zum Geburtstag geschenkt bekommen hat. Heute spielen sie den ganzen Abend hindurch. Dabei gewinnt Susi zweimal, Moritz dreimal und Giuliano zehnmal. Weil dieser so oft gewonnen hat, beschließt er, die Anzahl der Siege in einem Diagramm darstellen zu wollen. Aus gutem Grund wählt er ein Balkendiagramm, um seine vielen Siege besser zu veranschaulichen. Kannst du ihm helfen, das richtige Diagramm zu zeichnen?





Unsere Tipps für die Aufgaben

1
von 6

Gib das Diagramm an, welches die Anzahl der Siege richtig darstellt.

1. Tipp

Die Reihenfolge der Namen spielt keine Rolle.

2. Tipp

Es ist nur wichtig, dass jedem Namen die richtige Anzahl an Siegen zugeordnet ist.

3. Tipp

Auch wenn auf der horizontalen Achse nur gerade Zahlen stehen, ist eine ungerade Anzahl an Siegen ablesbar.

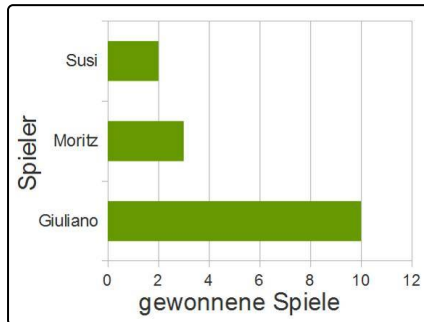


Lösungen und Lösungswege für die Aufgaben

1
von 6

Gib das Diagramm an, welches die Anzahl der Siege richtig darstellt.

Lösungsschlüssel: C



Die Freunde Susi, Moritz und Giuliano haben den ganzen Abend hindurch eifrig Tischfußball gespielt. Dabei hat Susi zweimal gewonnen, Moritz dreimal und Giuliano ganze zehnmal. Das richtige Balkendiagramm muss wie abgebildet aussehen.

Auf die Reihenfolge der Namen kommt es dabei nicht an. Es ist lediglich wichtig, dass jedem Namen die richtige Anzahl gewonnener Spiele zugeordnet wird. Und natürlich gefällt dieses Balkendiagramm Giuliano besonders. Es hebt die deutlich höhere

Anzahl seiner Siege hervor.